

بجواب فيها  
ص ٢١٥

## تدريبات الكتاب المدرسي

١ اكتب كلمة (صواب) أمام العبارات الصحيحة، وكلمة (خطأ) أمام العبارات غير الصحيحة:

- ( ) ( أ ) الفوسفات من مصادر الطاقة المهمة للصناعة.
- ( ) ( ب ) التجارة الداخلية تتم بين مصر والدول الأخرى.
- ( ) ( ج ) الصناعات اليدوية تتم في المنازل أو الورش.
- ( ) ( د ) تهدف حرفة التعدين إلى استخراج المعادن من باطن الأرض.

٢ ما المقصود بكل من ...؟

- ( أ ) الصناعة. ( ب ) التجارة. ( ج ) التعدين.

٣ أكمل الجدول التالي:

الصناعة التي يدخل فيها	الخام
.....	القطن
.....	الحديد
.....	قصب السكر
.....	الصوف

٤ ما العلاقة بين وسائل النقل وكل من ( الصناعة - التجارة )؟

٥ بم تفسر...؟ - تطور الصناعة من اليدوية إلى الحديثة.

٦ قارن بين الصناعة اليدوية والصناعة الحديثة في الجدول التالي:

وجه المقارنة	الصناعة اليدوية	الصناعة الحديثة
المكان الذي تتم فيه	.....	.....
عدد العمال	.....	.....



حل التدريب

مجاب عليها  
ص ٢١٥

## تدريبات الأضواء الشاملة على الدرس

## أكمل العبارات التالية بالكلمات المناسبة:

- ( أ ) من المقومات البشرية لقيام الصناعة الأيدى .....، ورأس .....
- ( ب ) من مصادر الطاقة في مصر: البترول، و .....، و .....
- ( ج ) يستخرج الحديد من ..... بالصحراء الغربية.
- ( د ) يصهر الحديد ويدخل في صناعة .....
- ( هـ ) يستخرج الفوسفات من منطقة ..... بالصحراء الغربية.
- ( و ) يستخرج البترول من منطقة خليج ..... وأهم حقوله حقل .....
- ( ز ) يستخرج الغاز الطبيعي من شمال ..... وأهم حقوله حقل .....
- ( ح ) يستخرج الفحم من منطقة ..... بسيناء.
- ( ط ) يقصد بحركة البيع والشراء بين القرى والمدن التجارة .....
- ( ي ) تنقسم الصناعة إلى صناعة يدوية وصناعة .....
- ( ك ) الصناعة الحديثة تتم في .....
- ( ل ) تنقسم وسائل النقل إلى .....، .....، .....

(المنيا ٢٠١٥)

(المنيا ٢٠١٥)

(الفيوم ٢٠١٥)

(جنوب سيناء ٢٠١٥)

## اختر الإجابة الصحيحة مما بين الأقواس:

- ( أ ) استخراج المعادن من باطن الأرض عملية يقصد بها .....
- (التعدين - التجارة - الصناعة - الزراعة) (كفر الشيخ، المنوفية ٢٠١٥)
- ( ب ) من المعادن التي تدخل في الصناعة .....
- (البترول - الكهرباء - الغاز الطبيعي - الحديد) (البحيرة ٢٠١٦)
- ( ج ) يستخرج الحديد في مصر من .....
- (أبو طرطور - سيناء - الواحات البحرية - البحر المتوسط)
- ( د ) يستخرج المنجنيز من منطقة ..... بسيناء.
- (أم بجمة - جبل مغارة - جبل موسى - أبو طرطور)
- ( هـ ) البترول والغاز الطبيعي من ..... (المواد الخام الزراعية - المواد الخام الحيوانية - مصادر الطاقة) (الجيزة ٢٠١٥)
- ( و ) الصناعات التي تتم في المصانع الكبيرة التي تدار بالآلات تسمى .....
- (صناعات يدوية - صناعات حديثة - صناعات الفخار - صناعة السجاد اليدوي)
- ( ز ) تحتاج التجارة إلى .....
- (منتجات جيدة - وسائل نقل - طرق جيدة - كل ما سبق)
- ( ح ) يطلق على عملية بيع وشراء المنتجات والسلع .....
- (الزراعة - التجارة - الصناعة - التعدين) (جنوب سيناء ٢٠١٥)
- ( ط ) من وسائل النقل الجوي .....
- (الطائرات - السفن - السيارات - القطارات) (البحيرة ٢٠١٦)

## اكتب كلمة (صواب) أمام العبارات الصحيحة، وكلمة (خطأ) أمام العبارات غير الصحيحة:

- ( أ ) من الخامات المعدنية الفحم والغاز الطبيعي. ( )
- ( ب ) يستخرج الحديد من منطقة أبو طرطور بالصحراء الغربية. ( )

## الدرس الثاني

## التعدين والصناعة والتجارة

- (ج) يدخل الصوف في صناعة الملابس. ( )
- (د) ( ) الصناعة هي استخراج المعادن من باطن الأرض. (الجيزة ٢٠١٥)
- (هـ) تتم الصناعة الحديثة داخل الورش والمنازل. ( )
- (و) ( ) وجود وسائل نقل جيدة يساعد على قيام تجارة ناجحة. (القاهرة ٢٠١٥)
- (ز) ( ) التجارة الخارجية يقصد بها البيع والشراء بين القرى والمدن. (القاهرة ٢٠١٦)

## اكتب ما تشير إليه كل عبارة من العبارات التالية:

- (أ) ( ) عملية استخراج المعادن ومصادر الطاقة الموجودة من باطن الأرض. (الجيزة ٢٠١٤)
- (ب) ( ) عملية تحويل المادة الخام إلى منتجات لسد احتياجات السكان. (دمياط ٢٠١٥)
- (ج) ( ) عملية بيع وشراء المنتجات وتبادل الخدمات. (المنيا ٢٠١٥)
- (د) ( ) صناعة تتم في المنازل أو الورش الصغيرة. (الإسماعيلية ٢٠١٥)
- (هـ) ( ) الصناعة التي تعتمد على مصادر الطاقة لتشغيل الآلات. (الجيزة ٢٠١٥)
- (و) ( ) عملية بيع أو شراء المنتجات أو السلع بين دولة وأخرى. ( )

## بم تفسر...؟ (اذكر سبباً واحداً):

- (أ) ( ) تنوع وسائل النقل في مصر. (ب) ازدهار التجارة في مصر. (ج) أهمية خام الجلود للصناعة.
- (د) ( ) أهمية خام الحديد للصناعة. (هـ) أهمية الذرة بالنسبة للصناعة.

## ما المقصود بكل من...؟

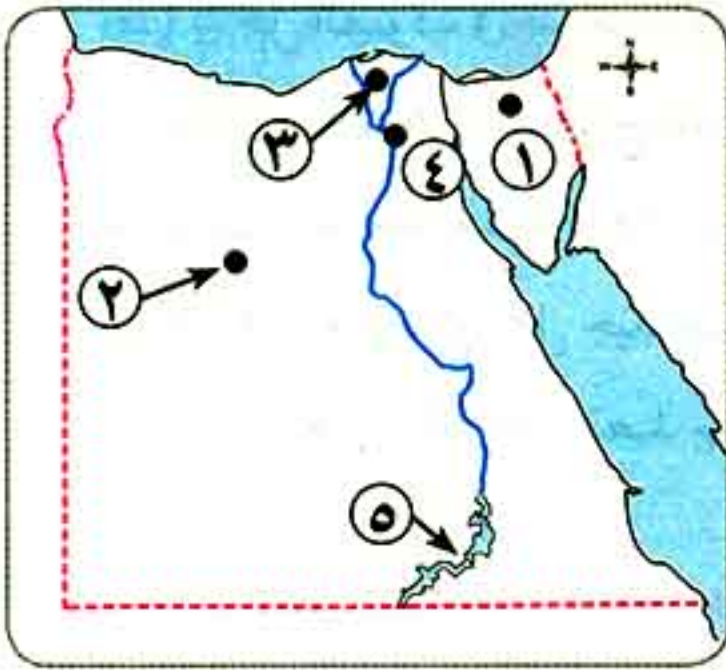
- (أ) ( ) التعدين. (الدهليزية ٢٠١٥) (ب) ( ) التجارة الداخلية. (القاهرة ٢٠١٥) (ج) ( ) الصناعة. (مطروح ٢٠١٥)

## أكمل الجدول التالي بكلمات مناسبة:

المادة الخام	الصناعة التي تقوم عليها	المادة الخام	الصناعة التي تقوم عليها
الذرة	.....	.....	.....
جلود الحيوانات	.....	الحديد	.....
قصب السكر	.....	الخشب	.....
الصوف	.....	.....	.....

## قارن بين:

- (أ) ( ) التجارة الداخلية - التجارة الخارجية.
- (ب) ( ) الصناعات اليدوية - الصناعات الحديثة من حيث (أهم ما يميزها - أمثلة لها).



أمامك خريطة صماء لمصر، وضع ما تدل عليه الأرقام بها:

- ١- منطقة لاستخراج الفحم .....
- ٢- منطقة لاستخراج الحديد .....
- ٣- حقل لاستخراج الغاز الطبيعي .....
- ٤- مدينة تقوم بها صناعة الحديد والصلب .....
- ٥- بحيرة .....

ما النتائج المترتبة على...؟

- توافر وسائل نقل حديثة بالنسبة للتجارة.

(البحيرة ٢٠١٥)

يجيب عنه التلميذ



سؤال الفائزين

- اجب عن الاسئلة التالية لتجمع نجوم التفوق:

١- فكر واستنتج العلاقة بين كل من:

- ١- التعدين - الصناعة - التجارة.
- ٢- الزراعة - النقل - التجارة.

٢- اكمل الشكل التالي: ( ٦ نجوم كل تكلمة نقطة )

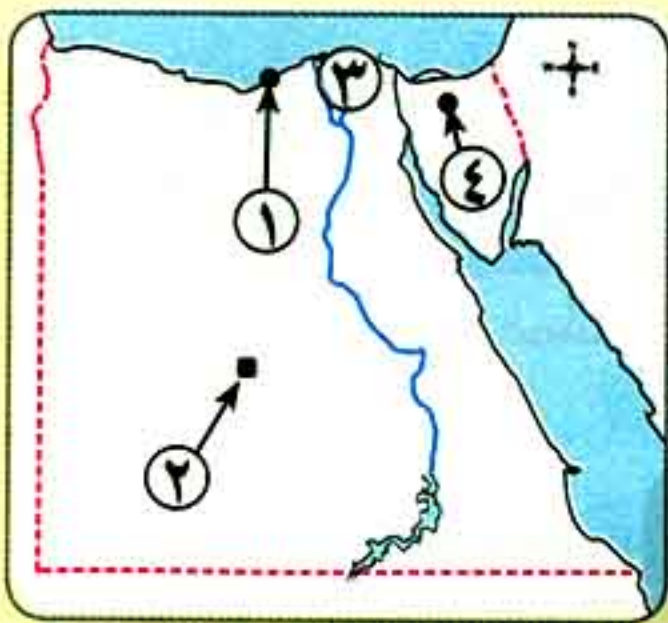
الحديد	المنجنيز	.....	البترو	الغاز الطبيعي	.....
.....	.....	أبو طرطور	.....	.....	جبل مغارة

مبروك حصلت على ( ) نجومات



احصل الآن على كتب الأضواء في مواد اللغة العربية - الرياضيات - العلوم وكتاب Gem في اللغة الإنجليزية .. لضمان النجاح والتفوق

## اختبار شامل على الدروس السابقة

يجيب  
عنه  
التلميذ

(القاهرة ٢٠١٥)

(جنوب سيناء ٢٠١٥)

(الجيزة ٢٠١٥)

(القاهرة ٢٠١٥)

(المنيا ٢٠١٥)

(أسوط ٢٠١٥)

١ أملك خريطة لمصر، اكتب ما تدل عليه الأرقام بها: (البحيرة ٢٠١٥)

- ١- مدينة تشتهر بوجود معامل لتكرير البترول .....
- ٢- منطقة يستخرج منها الفوسفات .....
- ٣- منطقة زراعية هامة .....
- ٤- منطقة لاستخراج الفحم .....

٢ أكمل العبارات التالية بكلمات مناسبة:

- ( أ ) يدخل القمح في صناعة .....
- ( ب ) من العوامل الطبيعية لقيام الصناعة .....
- ( ج ) من المواد الخام المعدنية .....
- ( د ) الصناعة الحديثة تتم في .....

٣ اكتب كلمة (صواب) أمام العبارات الصحيحة، وكلمة (خطأ) أمام العبارات غير الصحيحة:

- ( أ ) تعتمد الزراعة في مصر على مياه الأمطار.
- ( ب ) النشاط الاقتصادي هو عمل يقوم به الإنسان.
- ( ج ) تعد الصناعة أهم الأنشطة الخدمية في مصر.
- ( د ) التجارة الخارجية يقصد بها البيع والشراء بين القرى والمدن.

٤ ( أ ) بم تفسر ...؟

- ١- تنوع المحاصيل الزراعية في مصر.
- ٢- ازدهار التجارة في مصر.

( ب ) اكتب ما تشير إليه كل عبارة من العبارتين التاليتين:

- ١- الأنشطة التي تخدم الأنشطة الاقتصادية مثل التعليم والصحة والأمن.
- ٢- تحويل المواد الخام إلى منتجات لسد احتياجات السكان.

مجاب عنها  
من ٢١٦

## تدريبات الكتاب المدرسي

## ١ أكمل العبارات التالية بكلمات مناسبة:

- ( أ ) زيارة مكان داخل مصر للاستمتاع به يعرف بالسياحة .....
- ( ب ) ساعدت السياحة في زيادة .....
- ( ج ) من العوامل البشرية لجذب السياح لمصر .....
- ( د ) من واجبي نحو السياح ..... و .....
- ( هـ ) تمتلك مصر بعض العيون المائية التي تساعد في العلاج من الأمراض مثل عيون ..... بسياء.

## ٢ بم تفسر ...؟

- ( أ ) أهمية السياحة لمصر.
- ( ب ) اهتمام الدولة بنظافة المناطق السياحية وتجميلها.
- ( ج ) تعد منطقة عيون موسى من المناطق السياحية بمصر.

## ٣ ما النتائج المترتبة على اهتمام الدولة بإقامة المشروعات السياحية؟

## ٤ إذا كنت مسئولاً في مجال السياحة، فما مقترحاتك لتنمية السياحة في مصر؟

## تدريبات الأضواء الشاملة على الدرس

مجاب عنها  
من ٢١٦

## ١ أكمل العبارات الآتية بكلمات مناسبة:

- ( أ ) من المقومات الطبيعية لقيام السياحة ..... ، بينما من المقومات البشرية .....
- ( ب ) تسهم السياحة في زيادة ..... لمصر.
- ( ج ) زيارة مكان داخل مصر للاستمتاع به يعرف بالسياحة .....
- ( د ) انتقال الأفراد لزيارة أماكن خارج وطنهم تعد سياحة .....
- ( هـ ) من واجبنا نحو السياحة معاملة السياح معاملة .....
- ( و ) يزور السياح عيون ..... في سيناء للعلاج والاستشفاء.
- ( ز ) تساعد السياحة على نمو ..... وتوفير .....

## ٢ اكتب كلمة (صواب) أمام العبارات الصحيحة، وكلمة (خطأ) أمام العبارات غير الصحيحة:

- ( أ ) تساعد مناخ مصر المعتدل على مجيء السياح إلى مصر.
- ( ب ) تنوع الآثار من العوامل الطبيعية لقيام السياحة.
- (المنيا ٢٠١٥)
- (الإسماعيلية ٢٠١٦)

## الدرس الثالث

## السياحة

- (ج) موقع مصر يعد أهم مقومات السياحة.  
 (د) تهتم الدولة بتنمية المناطق السياحية في مصر.  
 (هـ) ساعد موقع مصر الجغرافي على جذب السياح إليها.  
 (و) يوجد في مصر العديد من مناطق الاستشفاء.  
 (ز) توفر السياحة العملات الأجنبية لمصر.  
 (ح) اتجه السياح إلى فرنسا يعد سياحة داخلية.

- (البحيرة ٢٠١٥) ( )  
 (الغربية ٢٠١٥) ( )  
 (الدقهلية ٢٠١٥) ( )  
 ( )  
 ( )  
 ( )  
 ( )

## اكتب ما تشير إليه كل عبارة من العبارات الآتية:

- (١) انتقال الأفراد لزيارة أماكن خارج وطنهم.  
 (ب) انتقال الفرد لزيارة أماكن معينة داخل أو خارج الدولة.  
 (ج) انتقال الأفراد لزيارة أماكن داخل وطنهم.

- (سوهاج ٢٠١٥) (.....)  
 (الشرقية ٢٠١٥) (.....)  
 (.....)

## بم تفسر...؟ (اذكر سببًا واحدًا)

- (١) يأتي السياح إلى مصر طوال العام.  
 (ب) أهمية السياحة لمصر.

- (جنوب سيناء ٢٠١٥)  
 (البحيرة ٢٠١٥)

## ما واجبنا نحو السياحة في مصر؟

- ما النتائج المترتبة على...؟ ازدهار السياحة في مصر.  
 ماذا يحدث إذا...؟ لم تتمتع مصر بمقومات السياحة.

- (البحيرة ٢٠١٥)  
 (الدقهلية ٢٠١٥)

يجيب عنه التلميذ

## سؤال الفائزين

اجب عن الأسئلة التالية لتجمع نجوم التفوق:

١- اكتب خطابًا لصديقك من خارج مصر لتشجيعه على زيارة مصر. استعن بالنقاط التالية:

١- المقصود بالسياحة.

٢- مقومات الجذب السياحي في مصر.

٤- الجهود التي تبذلها الدولة لتشجيع السياحة.

٣- أهمية السياحة لمصر.

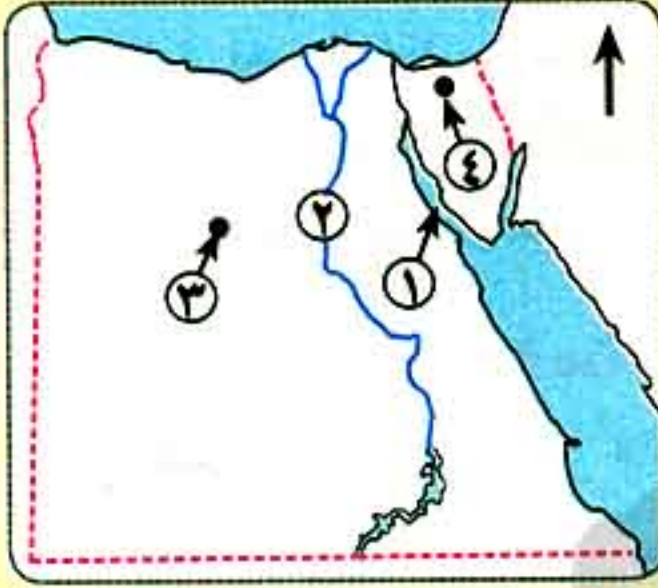
٥- دورك كمواطن نحو السياحة والمناطق السياحية.

٢- إذا كنت محافظًا لإحدى المحافظات السياحية، فكيف ستحافظ على الأماكن السياحية وتحسن معاملة السائحين؟

مبروك حصلت على ( ) نجوم



## اختبار شامل على الدروس السابقة

بجيب  
عنته  
التمليذ

١ أمامك خريطة صماء لمصر، اكتب ما تدل عليه الأرقام بها:

- ١- خليج ..... من مناطق استخراج البترول بمصر.
- ٢- من المصايد السمكية العذبة .....
- ٣- منطقة ..... يستخرج منها الحديد.
- ٤- منطقة ..... يستخرج منها الفحم.

٢ أكمل العبارات التالية بكلمات مناسبة:

- ( أ ) يعمل السكان في المحافظات الصناعية بحرفتي ..... و .....
- ( ب ) تعتبر ..... و ..... من أهم مصادر الطاقة اللازمة للصناعة.
- ( ج ) تنقسم السياحة في مصر إلى سياحة ..... وسياحة .....
- ( د ) يقصد السياح عيون موسى بهدف ..... من الأمراض .

٣ ( أ ) اختر الإجابة الصحيحة مما بين الأقواس:

- ١- من عوامل قيام الزراعة الطبيعية .....
- ٢- تقوم صناعة الألومنيوم في مدينة .....
- ٣- القنوات المائية التي تصل مياه النهر إلى الأراضي الزراعية هي ..... (الترع - الرِّياحات - السدود - المصارف)

( ب ) ما النتائج المترتبة على...؟

- توافر وسائل النقل الجيدة بالنسبة للتجارة في مصر. (سوهاج ٢٠١٥)

٤ ( أ ) اكتب كلمة (صواب) أمام العبارات الصحيحة، وكلمة (خطأ) أمام العبارات غير الصحيحة:

- ١- تشمل أنشطة الخدمات التعليم والصحة والأمن. ( )
- ٢- تنتشر الأغنام والماعز والإبل في الوادي والدلتا. ( )
- ٣- ساعد موقع مصر الجغرافي على جذب السياح إليها. ( )
- ٤- القمح من المحاصيل الصيفية. ( )

( ب ) قارن بين:

- ١- الصناعات اليدوية - الصناعات الحديثة من حيث: (المكان الذي تقوم فيه الصناعة - أمثلة لهذه الصناعات).
- ٢- المحاصيل الصيفية والمحاصيل الشتوية من حيث: (الخصائص - أمثلة لكل منهما).



مجاب عنها  
ص ٢١٦

## تدريبات الكتاب المدرسي على الوحدة الأولى

اكتب كلمة (صواب) أمام العبارات الصحيحة، وكلمة (خطأ) أمام العبارات غير الصحيحة:

- ( ١ ) تنوع الأنشطة الاقتصادية في مصر لتعدد الموارد. ( )  
 ( ٢ ) القطن من المحاصيل الشتوية التي تحتاج إلى درجة حرارة منخفضة. ( )  
 ( ٣ ) تنتشر الزراعة في الصحراء الغربية. ( )  
 ( ٤ ) ساعد موقع مصر الجغرافي على جذب السياح إليها. ( )  
 ( ٥ ) تنتشر الأغنام والماعز والإبل في الوادي والدلتا بمصر. ( )

أكمل العبارات التالية بكلمات مناسبة:

- ( ١ ) يدخل الحديد في صناعة .....  
 ( ٢ ) تسهم السياحة في نمو ..... لمصر.  
 ( ٣ ) يذهب السياح إلى منطقة عيون ..... بسيئاء بهدف العلاج من الأمراض.  
 ( ٤ ) تنقسم الصناعة إلى صناعة ..... وصناعة .....

بم تفسر...؟

- ( ١ ) أهمية السياحة لمصر.  
 ( ٢ ) تنوع المحاصيل الزراعية في مصر.  
 ( ٣ ) اهتمام الدولة بتوفير الأسمدة والبذور الجيدة.

أكمل الجدول التالي:

المفهوم	المقصود به
.....	عملية شراء أو بيع المنتجات والسلع بين دولة وأخرى.
.....	استخراج المعادن ومصادر الطاقة الموجودة في باطن الأرض.
.....	الصناعة التي تتم في المصانع الكبيرة التي تدار بالآلات.
.....	تنمية سياحية(*)

اختر الإجابة الصحيحة مما بين الأقواس:

- ( ١ ) من الأنشطة الخدمية .....  
 ( ٢ ) من المحاصيل الشتوية .....  
 ( ٣ ) من العوامل البشرية لجذب السياحة لمصر .....  
 ( ٤ ) من المعادن التي تدخل في الصناعة .....  
 (الصناعة - التجارة - السياحة - التعليم)  
 (البرسيم - القطن - الذرة - الأرز)  
 (المناخ المعتدل - الآثار المتنوعة - الطبيعة الساحرة - الموقع المتميز)  
 (البترو - الحديد - الغاز الطبيعي - الفحم)

ما النتائج المترتبة على...؟

- ( ١ ) توفر وسائل نقل حديثة بالنسبة للتجارة.  
 ( ٢ ) ازدهار السياحة في مصر.  
 ( ٣ ) وجود مياه جوفية في بعض المناطق الصحراوية.  
 ( ٤ ) تنوع الحرارة صيفًا وشتاءً.  
 ( ٥ ) اهتمام الدولة بإنشاء عديد من القرى السياحية والفنادق.

(\*) أصبحت المعلومة إثرانية في كتاب الشرح طبقًا لتعديلات الوزارة لعام ٢٠١٧/٢٠١٨ م.

## تدريبات الأضواء العامة على الوحدة الأولى

## المجموعة الأولى: أكمل العبارات الآتية بكلمات مناسبة:

- ١ - الهدف من الأنشطة الاقتصادية هو توفير احتياجات المجتمع من ..... و .....
- ٢ - يعمل الإنسان في المحافظات الزراعية ب.....
- ٣ - يعمل الإنسان في المحافظات الصناعية ب.....
- ٤ - يعمل الإنسان في المحافظات الساحلية بحرفتى ..... و .....
- ٥ - يعمل الإنسان في المحافظات الصحراوية بحرفتى ..... و .....
- ٦ - من أنشطة الخدمات ..... و ..... و .....
- ٧ - من الخامات الزراعية التى تدخل فى الصناعة ..... و ..... و .....
- ٨ - من المنتجات الحيوانية ..... و ..... و .....
- ٩ - المصدر الرئيسى للمياه العذبة فى مصر هو .....
- ١٠ - من أهم المحاصيل الصيفية فى مصر ..... ، ومن الفواكه .....
- ١١ - من أهم المحاصيل الشتوية فى مصر ..... ، ومن الفواكه .....
- ١٢ - من مصادر المياه فى مصر ..... و ..... و .....
- ١٣ - يتم الحصول على المياه الجوفية عن طريق ..... و .....
- ١٤ - تتركز مياه ..... فى السواحل الشمالية لمصر.
- ١٥ - من مصائد المياه المالحة ..... و .....
- ١٦ - يعد نهر النيل وبحيرة ناصر من مصائد المياه .....
- ١٧ - تعتبر ..... ، من أهم العوامل الطبيعية لقيام الصناعة .
- ١٨ - من مصادر الطاقة ..... و .....
- ١٩ - من العوامل البشرية لقيام الصناعة ..... و .....
- ٢٠ - يقصد بالصناعة تحويل ..... إلى .....
- ٢١ - تعد صناعة ..... من أهم الصناعات اليدوية.
- ٢٢ - يدخل القطن فى صناعة .....
- ٢٣ - تقوم الصناعات اليدوية فى ..... ، بينما تقوم الصناعات الحديثة فى .....
- ٢٤ - تهدف التجارة إلى نقل السلع والمنتجات من مناطق ..... إلى مناطق .....
- ٢٥ - التجارة الداخلية هى التجارة بين ..... و ..... داخل الدولة.
- ٢٦ - التجارة الخارجية هى حركة البيع والشراء بين ..... و ..... الأخرى.
- ٢٧ - من أسباب تقدم التجارة فى مصر ..... و .....

## تدريبات شاملة على الوحدة الأولى

- ٢٨- من أنواع السياحة ..... و.....
- ٢٩- من العوامل البشرية لجذب السياح إلى مصر .....
- ٣٠- من مناطق السياحة العلاجية في مصر .....
- ٣١- يمتاز مناخ مصر بأنه ..... طوال العام.

(القاهرة ٢٠١٦)

## المجموعة الثانية: اختر الإجابة الصحيحة مما بين الأقواس:

- ١ - من الأنشطة الاقتصادية الرئيسية .....
- ٢ - يستخرج الفحم من .....
- ٣ - من المناطق الزراعية التي تعتمد على مياه الآبار .....
- (الواحات - الودادى - الدلتا - الصحراء الشرقية)
- ٤ - من المحاصيل الشتوية في مصر .....
- (القطن - قصب السكر - القمح - الأرز) (سوهاج ٢٠١٥)
- ٥ - تقوم صناعة الخبز على .....
- (الشعير - القمح - الذرة - كل ما سبق)
- ٦ - من المقومات البشرية لقيام الزراعة .....
- (السوق - موارد المياه - المناخ - التربة)
- ٧ - ترع مائية كبيرة تخرج من النهر مباشرة .....
- (الترع - السدود - الرياحات - القناطر)
- ٨ - قنوات مائية يتم حفرها لتوصيل المياه إلى الأراضي الزراعية .....
- (الترع - السدود - الرياحات - القناطر)
- ٩ - من العوامل الطبيعية لقيام الزراعة .....
- (السوق - الأيدى العاملة - التربة - رأس المال) (جنوب سيناء ٢٠١٥)
- ١٠ - من أهم المحاصيل الصيفية محصول .....
- (الشعير - القطن - الفول - البرسيم) (كفر الشيخ ٢٠١٥)
- ١١ - يعتبر ..... من المواد الخام الحيوانية.
- (القطن - الصوف - القصب - السكر) (القاهرة ٢٠١٥)
- ١٢ - تكثر تربية ..... في الودادى والدلتا.
- (الجاموس - الأغنام - الإبل - الماعز)
- ١٣ - تقوم صناعة الأسمدة على .....
- (الفحم - الفوسفات - المنجنيز - الحديد)
- ١٤ - تعتمد الزراعة في سواحل مصر الشمالية على مياه .....
- (نهر النيل - البحيرات - الأمطار - العيون) (مطروح ٢٠١٥)
- ١٥ - من مقومات السياحة في مصر .....
- (الآثار - الموقع - المناخ - كل ما سبق)
- ١٦ - من المظاهر الطبيعية التي تجذب السياح .....
- (الآثار - المحميات الطبيعية - الأسواق - القرى السياحية)
- ١٧ - يستخرج الحديد في مصر من منطقة .....
- (أبو طرطور - سيوة - الواحات البحرية - جبل مغارة)
- ١٨ - يستخرج الذهب في مصر من .....
- (الصحراء الشرقية - الصحراء الغربية - الودادى - الدلتا)
- ١٩ - من أهم حقول الغاز الطبيعي في شمال الدلتا .....
- (حقل بلاعيم - حقل مرجان - حقل أبو ماضي - حقل آمال)
- ٢٠ - يستخرج الفوسفات من الصحراء الغربية من حقول .....
- (الواحات البحرية - السكرى - أسوان - أبو طرطور)
- ٢١ - يستخرج المنجنيز من حقل ..... بسيناء.
- (أم بجمة - جبل المغارة - جبل الطور - شرم الشيخ)

المجموعة الثالثة: اكتب كلمة (صواب) أمام العبارات الصحيحة، وكلمة (خطأ) أمام العبارات غير الصحيحة:

- ١ - الهدف من الأنشطة الاقتصادية توفير احتياجات الإنسان. ( )
- ٢ - تعدد الأنشطة الاقتصادية في مصر. ( )
- ٣ - القطن وقصب السكر من المواد الخام الزراعية. ( )
- ٤ - يعمل معظم سكان البيئة الساحلية بالتعدين والرعى. ( )
- ٥ - تشمل أنشطة الخدمات التعليم والصحة. ( )
- ٦ - يصنع الخبز من القمح فقط. ( )
- ٧ - توفر الزراعة ما يحتاج إليه الإنسان من منتجات زراعية وغذائية. ( )
- ٨ - تتنوع المحاصيل الزراعية في مصر. ( )
- ٩ - تختلف المحاصيل الزراعية بسبب اختلاف الحرارة والتربة والمياه. ( )
- ١٠ - القطن من المحاصيل الصيفية. ( )
- ١١ - توجد المياه الجوفية في الصحراء الغربية. ( )
- ١٢ - المصدر الرئيسى للمياه في مصر هو الأمطار. ( )
- ١٣ - تربي الإبل والماعز والأغنام في الصحراء. ( )
- ١٤ - تسقط الأمطار على سواحل مصر الشمالية. ( )
- ١٥ - تتنوع المصايد السمكية في مصر. ( )
- ١٦ - الأسواق من مقومات الصناعة الطبيعية. ( )
- ١٧ - الصناعة هي استخراج المعادن من باطن الأرض. ( )
- ١٨ - تقوم الصناعات الحديثة في المصانع الكبرى. ( )
- ١٩ - تهدف التجارة إلى نقل السلع من مناطق الإنتاج إلى مناطق الاستهلاك. ( )
- ٢٠ - انتقال المصريين لزيارة الآثار الفرعونية في أسوان سياحة داخلية. ( )
- ٢١ - توفر السياحة فرص عمل للشباب. ( )
- ٢٢ - يأتى السياح إلى مصر فى الشتاء فقط. ( )
- ٢٣ - تهتم الدولة بتنشيط السياحة الداخلية والخارجية. ( )
- ٢٤ - النشاط الاقتصادى هو عمل يقوم به الإنسان. ( ) (الجيزة ٢٠١٥)
- ٢٥ - تنتشر الزراعة فى الصحراء الشرقية. ( ) (الدقهلية ٢٠١٥)
- ٢٦ - تتنوع الأنشطة الاقتصادية فى مصر لتعدد الموارد. ( ) (كفر الشيخ ٢٠١٥)
- ٢٧ - يعتبر نهر النيل المصدر الرئيسى للمياه فى مصر. ( ) (مطروح ٢٠١٥)

## تدريبات شاملة على الوحدة الأولى

- ٢٨- القمح من المحاصيل الصيفية. ( ) (بني سويف ٢٠١٥)
- ٢٩- تتميز الدلتا والوادي بترتبتها الخصبة. ( ) (بني سويف ٢٠١٥)
- ٣٠- من أهم المواد الخام الحيوانية اللحوم والجلود والصوف. ( ) (المنيا ٢٠١٥)
- ٣١- تقوم الزراعة في السواحل الشمالية في مصر على المياه الجوفية. ( ) (المنيا ٢٠١٥)
- ٣٢- تنتشر الأغنام والماعز والإبل في الوادي والدلتا. ( ) (سوهاج ٢٠١٥)
- ٣٣- بحيرة ناصر من مصائد المياه العذبة. ( ) (أسبوط ٢٠١٥)

## المجموعة الرابعة: اكتب ما تشير إليه العبارات الآتية:

- ١ - العمل الذي يقوم به الإنسان لسد احتياجاته بطريق مباشر أو كسب المال لشراء هذه الاحتياجات. (.....)
- ٢ - الأنشطة التي تخدم الأنشطة الاقتصادية مثل التعليم والصحة والأمن. (.....)
- ٣ - ترعة كبيرة تخرج من النهر مباشرة. (.....)
- ٤ - تحويل المواد الخام إلى منتجات لسد احتياجات السكان. (.....)
- ٥ - استخراج المعادن ومصادر الطاقة من باطن الأرض. (.....)
- ٦ - انتقال الأفراد لزيارة أماكن داخل وطنهم. (.....)
- ٧ - انتقال الأفراد لزيارة أماكن خارج وطنهم. (.....)
- ٨- انتقال الفرد من المكان الذي يعيش فيه لزيارة أماكن معينة داخل وطنه أو خارجه. (.....)
- ٩- من أهم مصادر المياه في مصر. (.....)

## المجموعة الخامسة: بهم تفسر ...؟ (اذكر سبباً واحداً)

- ١ - أهمية الأنشطة الاقتصادية. ( ) (الغربية ٢٠١٦)
- ٢ - أهمية الثروة الزراعية. ( ) (الغربية ٢٠١٦)
- ٣ - تنوع المحاصيل الزراعية في مصر. (بني سويف ٢٠١٥)
- ٤ - أهمية المياه الجوفية في الواحات. ( )
- ٥ - تنوع الثروة السمكية في مصر. ( )
- ٦ - رواج التجارة في مصر. ( )
- ٧ - يأتي السياح إلى مصر طوال العام. ( )
- ٨- أهمية السياحة بالنسبة لمصر. ( )
- ٩- قيام الزراعة في الواحات. ( )
- ١٠- قيام الزراعة في الساحل الشمالي. ( )
- ١١- أهمية قصب السكر بالنسبة للصناعة. ( )
- ١٢- أهمية عيون موسى بسيينا بالنسبة للسياحة. ( )

## المجموعة السادسة: أسئلة متنوعة:

(أ) أكمل الجدول التالي بكلمات مناسبة:

الثروة	أنوعها	مناطق وجودها
الحيوانية	١- .....	.....
	٢- .....	.....
السمكية	١- .....	.....
	٢- .....	.....

(ب) ما المقصود بالمصطلحات التالية...؟

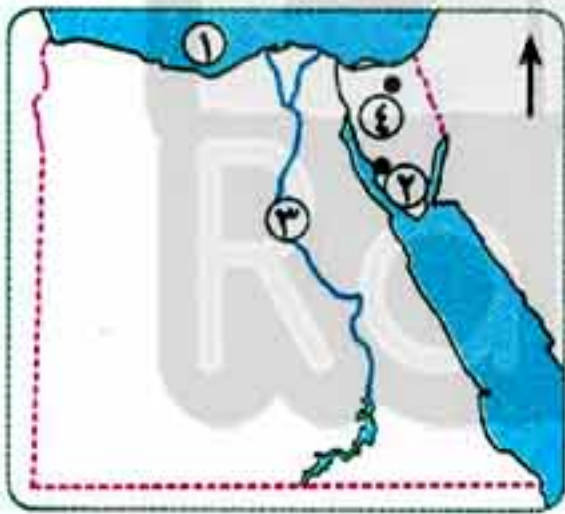
- ١- صناعة.      ٢- ترع.      ٣- ريّاح.      ٤- التعدين.

(ج) ما النتائج المترتبة على...؟

- ١- تنوع المناخ في مصر.      ٢- وفرة المعادن في مصر.      ٣- اعتدال المناخ في مصر طوال العام.  
٤- وجود عيون موسى في سيناء.      ٥- تقدم وسائل النقل في مصر.      ٦- موقع مصر الجغرافي المتميز.

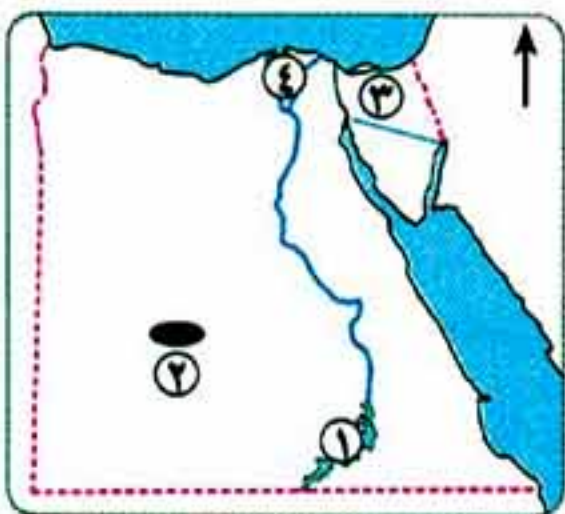
## المجموعة السابعة: الأشكال والخرائط:

(أ) أمامك خريطة صماء لجمهورية مصر العربية، اكتب ما تدل عليه الأرقام الموضحة في الخريطة:



- ١- من مصايد المياه المالحة .....  
٢- حقل بترول .....  
٣- من مصايد المياه العذبة .....  
٤- منطقة لاستخراج الفحم .....

(ب) أمامك خريطة صماء لجمهورية مصر العربية، اكتب ما تدل عليه الأرقام الموضحة في الخريطة:



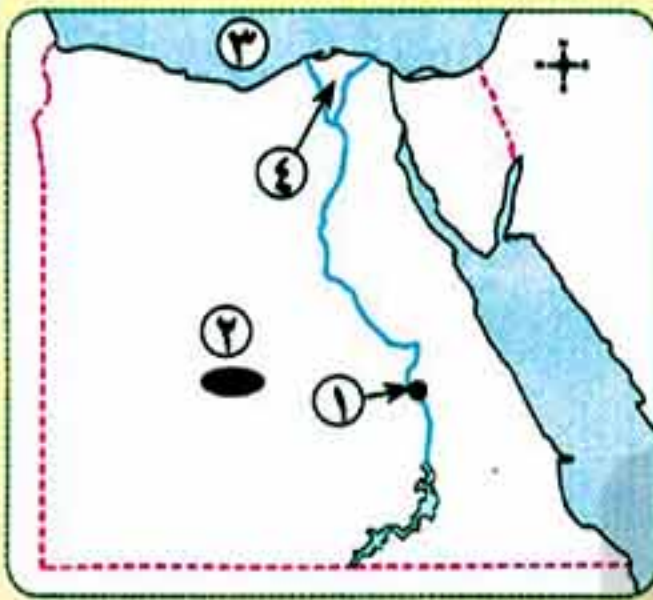
- ١- بحيرة .....  
٢- منطقة لاستخراج الفوسفات .....  
٣- محافظة تنتشر بها صناعة الأسمنت .....  
٤- منطقة زراعية هامة .....

## تدريبات شاملة على الوحدة الأولى

## نموذج اختبارات الأضواء على الوحدة الأولى

مجاب عنه ص ٢١٧

## النموذج الأول



أمامك خريطة صماء لمصر، اكتب ما تدل عليه الأرقام الموضحة عليها:

- ١ - مدينة سياحية هامة .....
- ٢ - منطقة لاستخراج الفوسفات .....
- ٣ - من مصايد المياه المالحة .....
- ٤ - منطقة زراعية رئيسية .....

## أكمل العبارات الآتية بكلمات مناسبة:

- ( أ ) يدخل القطن في صناعة ..... ، بينما تدخل جلود الحيوانات في صناعة .....
- ( ب ) من أهم الصناعات اليدوية صناعة .....
- ( ج ) تنوع الأنشطة الاقتصادية في مصر لتنوع .....
- ( د ) من مقومات قيام الزراعة في مصر ..... و .....

(القاهرة ٢٠١٦)

## اختر الإجابة الصحيحة مما بين الأقواس:

- ( أ ) المصدر الرئيسي للمياه في الواحات هو ..... (الأمطار - مياه النيل - الآبار - كل ما سبق) (الجيزة ٢٠١٦)
- ( ب ) من المحاصيل الشتوية ..... (القطن - قصب السكر - الأرز - القمح) (القليوبية ٢٠١٦)
- ( ج ) من مصايد المياه العذبة بحيرة ..... (إدكو - مريوط - ناصر - المنزلة)

## اكتب كلمة (صواب) أمام العبارات الصحيحة، وكلمة (خطأ) أمام العبارات غير الصحيحة فيما يلي:

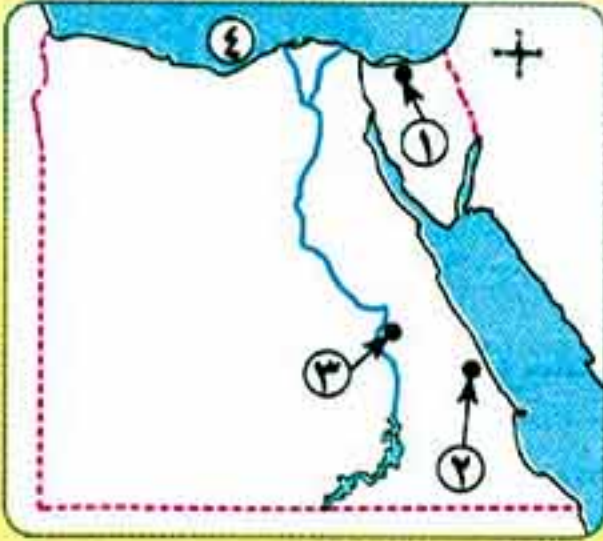
- ( أ ) تنقسم مقومات الصناعة إلى طبيعية وبشرية. ( )
- ( ب ) تعتمد الصناعات الحديثة على المهارات اليدوية. ( )
- ( ج ) الصناعة هي تحويل المواد الخام إلى منتجات لسد احتياجات السكان. ( )
- ( د ) وفرة وسائل النقل تساعد على زيادة النشاط التجاري. ( )

## بم تفسر ...؟

(القاهرة ٢٠١٦)

- ( أ ) قيام الزراعة في السواحل الشمالية لمصر.
- ( ب ) ازدهار السياحة في مصر.

١ أمامك خريطة صماء لمصر، اكتب ما تدل عليه الأرقام الموضحة عليها:



- ١- منطقة لاستخراج الفحم .....
- ٢- منجم لاستخراج الذهب .....
- ٣- مدينة أثرية .....
- ٤- من مصايد المياه المالحة .....

٢ أكمل العبارات الآتية بكلمات مناسبة:

- ( أ ) يعمل السكان في البيئة الصناعية بحرفتي ..... و .....
- ( ب ) تنقسم وسائل النقل في مصر إلى نقل برى و ..... و .....
- ( ج ) تنوع المحاصيل الزراعية نتيجة .....
- ( د ) من واجبي نحو السياحة ..... و .....

٣ بم تفننر...؟

- ( أ ) تعد عيون موسى في سيناء من المناطق السياحية الهامة.
- ( ب ) أهمية الزراعة لمصر.

٤ اكتب كلمة (صواب) أمام العبارات الصحيحة، وكلمة (خطأ) أمام العبارات غير الصحيحة فيما يلي:

- ( أ ) زيارتي للآثار داخل محافظتي تعد سياحة خارجية. ( )
- ( ب ) بحيرة ناصر من مصايد المياه المالحة. ( )
- ( ج ) يأتي السياح إلى مصر في فصل الشتاء فقط. ( )
- ( د ) المنجنيز من مصادر الطاقة المهمة للصناعة. ( )

٥ اختر الإجابة الصحيحة مما بين الأقواس:

- ( أ ) التجارة بين مصر والدول الأخرى هي ..... (تجارة بينية - تجارة داخلية - تجارة خارجية - كل ما سبق)
- ( ب ) تقوم صناعة الخبز على ..... (القمح - الشعير - الذرة - كل ما سبق)
- ( ج ) من أهم الصناعات اليدوية ..... (السيارات - السجاد - الآلات - الأسمدة)





مجاب عنها  
ص ٢٢٢

## تدريبات الكتاب المدرسي

١ بم تفسر...؟

- ( أ ) تسمية عصر الدولة الحديثة بعصر المجد الحربي.  
( ب ) إرسال الملكة حتشبسوت رحلة تجارية إلى بلاد بونت وأخرى إلى محاجر أسوان.  
( ج ) توقيع رمسيس الثاني لمعاهدة السلام مع الحيثيين رغم انتصاره.

٢ إلى من تنسب هذه الأعمال...؟

- ( أ ) الانتصار في معركة «مجدو».  
( ب ) الانتصار على الحيثيين في معركة «قادش».  
( ج ) عقد أقدم معاهدة سلام في التاريخ.  
( د ) تكوين أول إمبراطورية في التاريخ.  
( هـ ) بناء معبد الدير البحري.

٣ فكر، ثم أكمل الخريطة الزمنية التالية لتتعرف أشهر ملوك الدولة الحديثة وأهم أعمالهم:



حل التدريب

مجاب عنها  
ص ٢٢٢

## تدريبات الأضواء الشاملة على الدرس

١ أكمل العبارات التالية بما يناسبها من كلمات:

- ( أ ) يسمى عصر الدولة الحديثة بعصر .....  
( ب ) شيدت الملكة حتشبسوت معبد .....  
( ج ) حكمت الملكة ..... مصر وعملت على استقرار البلاد ونهضتها في مختلف الميادين. (الإسماعيلية ٢٠١٥)  
( د ) جلبت الملكة حتشبسوت البخور والعاج من بلاد .....  
( هـ ) أرسلت الملكة حتشبسوت البعثات إلى فينيقيا لجلب .....

(الدقهلية ٢٠١٧)

( و ) انتصر تحتمس الثالث على الأعداء في معركة .....

(كفر الشيخ ٢٠١٧)

( ز ) استطاع رمسيس الثاني هزيمة الحيثيين في معركة .....

( ح ) بنى الملك رمسيس الثاني معبدى .....

( ط ) أطلق لقب بطل الحرب والسلام على الملك .....

**اختر الإجابة الصحيحة مما بين الأقواس:**

( ١ ) يطلق على عصر الدولة الحديثة في عهد الفراعنة .....

(عصر الأهرامات - عصر الرخاء الاقتصادي - عصر المجد الحربي - عصر الاضمحلال) (المنوفية ٢٠١٥)

( ب ) أقامت الملكة حتشبسوت معبد ..... غرب الأقصر . ( أبو سمبل - الدير البحري - الكرنك - الأقصر )

( ج ) تسمى بلاد بونت باسم ..... حاليًا. (الصومال - لبنان - فينيقيا - النوبة) (بنى سويف ٢٠١٥)

( د ) أرسلت الملكة ..... بعثة تجارية لبلاد بونت لجلب الأخشاب.

(نفرتيتي - كليوباترا - إياح حتب - حتشبسوت) (الجيزة ٢٠١٧)

( هـ ) انتصر تحتمس الثالث على الأعداء في معركة ..... (قادش - مجدو - إمبابة - بونت) (الإسكندرية ٢٠١٥)

( و ) صاحب أقدم معاهدة سلام في التاريخ ..... (خوفو - خفرع - أخناتون - رمسيس الثاني) (المنيا ٢٠١٥)

( ز ) انتصر رمسيس الثاني في موقعة قادش على ..... (الحيثيين - النوبيين - الأشوريين - الآسيويين)

( ح ) أسس رمسيس الثاني معبد ..... (إدفو - فيلة - الأقصر - اللوتس) (القاهرة ٢٠١٦)

**اكتب كلمة (صواب) أمام العبارات الصحيحة، وكلمة (خطأ) أمام العبارات غير الصحيحة فيما يلي:**

( ١ ) بدأ عصر الدولة الحديثة على يد الملك أحمس. ( )

( ٢ ) لقب الملك أمنمحات الثالث ببطل الحرب والسلام. (الإسكندرية ٢٠١٧) ( )

( ٣ ) لقب رمسيس الثالث ببطل الحرب والسلام. (البحيرة، السويس ٢٠١٧) ( )

( ٤ ) نجح الملك تحتمس الثالث في هزيمة الحيثيين في معركة قادش. (القليوبية ٢٠١٧) ( )

( ٥ ) أسس تحتمس الثالث إمبراطورية في التاريخ. ( )

( ٦ ) اتخذ الهكسوس من طيبة عاصمة لهم. (القاهرة ٢٠١٦) ( )

( ٧ ) انتصر رمسيس الثاني على الحيثيين في معركة مجدو. ( )

( ٨ ) عقد رمسيس الثاني أول معاهدة سلام في التاريخ. ( )

**بم تفسر ...؟ (اذكر سببًا واحدًا)**

( ١ ) شهرة تحتمس الثالث العسكرية.

(الجيزة ٢٠١٥)

( ٢ ) أرسلت حتشبسوت بعثة تجارية لبلاد بونت.

## شخصيات واحداث من التاريخ الفرعونى

(البحيرة ٢٠١٦)

(ج) أرسلت الملكة حتشبسوت الرحلات التجارية لمحاجر أسوان.

(الإسكندرية ٢٠١٦)

(د) لقب الملك رمسيس الثانى ببطل الحرب والسلام.

## ما النتائج المترتبة على...؟

(أسوان ٢٠١٦)

- (أ) انتصار تحتمس الثالث على الأعداء.  
(ب) البعثات التى أرسلتها الملكة حتشبسوت إلى بلاد بونت.  
(ج) اهتمام رمسيس الثانى بالعمارة.

## إلى من تنسب الأعمال الآتية...؟

(البحيرة ٢٠١٥)

(أ) أحد أمراء طيبة، وتبدأ بعصره الدولة الحديثة.

(الفيوم ٢٠١٦)

(ب) وقع أقدم معاهدة سلام فى التاريخ.

(بورسعيد ٢٠١٦)

(ج) أشهر ملكات مصر وقامت ببناء الدير البحرى.

(أسبوط ٢٠١٥)

(د) عقد معاهدة السلام مع الحيثيين.

(القاهرة ٢٠١٦)

(هـ) أقام أقدم إمبراطورية فى التاريخ.

(القاهرة ٢٠١٦)

(و) أرسلت بعثة تجارية إلى بلاد بونت (الصومال حالياً).

(القاهرة ٢٠١٦)

(ز) لقب ببطل الحرب والسلام وانتصر فى موقعة قادش.

(ح) الملك الذى انتصر على الأعداء فى معركة مجدو.

## اكتب المصطلح العلمى:

(القاهرة ٢٠١٦)

(أ) عصر تميز بالانتصارات الحربية.

(القاهرة ٢٠١٦)

(ب) معركة انتصر فيها رمسيس الثانى على الحيثيين.

(ج) معركة انتصر فيها تحتمس الثالث على الأعداء.

يجيب عنه التلميذ



## سؤال الفائقين

أجب عن السؤال التالى لتجمع نجوم التفوق:

أمامك صور لأربعة من ملوك الدولة الحديثة. اذكر أهم أعمال كل منهم وشهرته التاريخية.



رمسيس الثانى



تحتمس الثالث



حتشبسوت



أحمس



مجاب عنها  
ص ٢٢٣

## تدريبات الكتاب المدرسي

## ١ اكمل ما يأتي:

- ( أ ) بناء المعابد لإقامة الشعائر الدينية من واجبات .....
- ( ب ) كان ..... يعين الوزير ليساعده على إدارة .....
- ( ج ) كان من أهم مسئوليات حاكم الإقليم توفير ..... وحفظ .....
- ( د ) إدارة الصناعة في مصر قديماً يقابلها حالياً وزارة .....

## ٢ بم تفسر...؟

- ( أ ) تعيين الفرعون للوزير.
- ( ب ) الاهتمام ببناء جيش قوى في كل العصور.

## ٣ اكمل الشكل التالي:

من مسئوليات حكام الأقاليم بعد وقبل الوحدة

إدارة شؤون  
الأقاليم.

## تدريبات الأضواء الشاملة على الدرس

مجاب عنها ص ٢٢٣



حل التدريب

## ١ اكمل العبارات الآتية بكلمات مناسبة:

- ( أ ) تركزت جميع السلطات في مصر القديمة في يد .....
- ( ب ) تحقيق العدالة وبناء المعابد من مهام .....
- ( ج ) كان الملك يعين ..... ليساعده في إدارة شؤون البلاد.
- ( د ) كان الوزير في مصر القديمة يرأس .....
- ( هـ ) يقابل منصب حاكم الإقليم منصب ..... حالياً.
- ( و ) من مهام حكام الأقاليم ..... و .....
- ( ز ) إدارة التجارة يقابلها حالياً .....
- ( ح ) تساعد الحكومة ..... في إدارة شؤون البلاد في مصر القديمة.

## ٢ اختر الإجابة الصحيحة مما بين الأقواس:

- ١- اعتبره المصريون ابن الإله على الأرض هو ..... (الفرعون - الوزير - الحكومة - الجيش) (المنيا ٢٠١٥)
- ٢- كان ..... يجمع في يده كل السلطات. (الكاتب - الوزير - حاكم الإقليم - الفرعون) (الجيزة ٢٠١٥)

- ٣- كان الملك يعين ..... ليساعده في إدارة شئون البلاد. (الوزير - حاكم الإقليم - الكاتب - الحكومة المركزية)
- ٤- إدارة ..... يقابلها الآن وزارة الزراعة. (التجارة - الصناعة - الزراعة - الجيش)
- ٥- ظهر الاهتمام بالجيش أيام ..... (أحمس - تحتمس الثالث - رمسيس الثاني - كل ما سبق)
- ٦- حاكم الإقليم في مصر القديمة هو ..... حاليًا. (الوزير - الرئيس - المحافظ - المدير)

### اكتب كلمة (صواب) أمام العبارات الصحيحة، وكلمة (خطأ) أمام العبارات غير الصحيحة فيما يلي:

- ( أ ) ( ) كان الوزير يعين الملك لإدارة شئون البلاد. (الغربية ٢٠١٦)
- ( ب ) ( ) نظر المصريون للفرعون على أنه الإله أو ابن الإله. (القاهرة ٢٠١٦)
- ( ج ) ( ) الوزير هو الحاكم الفعلي الذي تتركز في يده كل السلطات. (الجيزة ٢٠١٤)
- ( د ) ( ) من مسئوليات الوزير بناء المعابد للآلهة.
- ( هـ ) ( ) إدارة الزراعة في مصر القديمة يقابلها وزارة الزراعة حاليًا.
- ( و ) ( ) يقابل منصب الفرعون قديماً منصب رئيس الوزراء حاليًا. (الإسكندرية ٢٠١٥)
- ( ز ) ( ) يقابل منصب حاكم الإقليم حاليًا منصب المحافظ.
- ( ح ) ( ) لم يهتم المصري القديم بوجود جيش قوى للبلاد.

### اكتب ما تشير إليه العبارات الآتية:

- ( أ ) ابن الإله، والحاكم الفعلي للبلاد، وتتركز في يده كل السلطات. (.....)
- ( ب ) كان يرأس الحكومة المركزية في مصر القديمة. (.....)
- ( ج ) كان منصبه قديماً يقابل منصب المحافظ حاليًا. (.....)

### بم تفسر ...؟ (اذكر سبباً واحداً)

- ( أ ) لم تكن حياة الفرعون حياة كسل وخمول. (أسبوط ٢٠١٥)
- ( ب ) أهمية منصب حاكم الإقليم. (بورسعيد، الشرقية ٢٠١٥)
- ( ج ) أهمية منصب الوزير في مصر القديمة.
- ( د ) الاهتمام ببناء جيش قوى في كل العصور.
- ( هـ ) تعيين الفرعون للوزير.

### ما النتائج المترتبة على...؟

- ( أ ) زيادة مسئوليات الفرعون. (القاهرة ٢٠١٥)
- ( ب ) الاهتمام بالجيش المصري القديم.
- ( ج ) ازدياد مهام ومسئوليات الفرعون في مصر.

يجيب عنه التلميذ



سؤال الفائزين

أجب عن الأسئلة التالية لتجمع نجوم التفوق:

برهن على صحة العبارات التالية:




١- تعددت مهام الفرعون في مصر القديمة.

٢- أهمية تعيين الفرعون وزيراً له.

٣- أهمية منصب حاكم الإقليم.

٤- أهمية الجيش في مصر القديمة.

مبروك لقد ربحت عدد ( ) من نجوم التفوق



ذاكره اولي  
RaNia SaYed

مجاب عنها  
ص ٢٢٤

## تدريبات الكتاب المدرسي

اكتب معاني الكلمات الآتية:

رقم	الكلمة	معناها
١	تحنيط	.....
٢	بعث	.....
٣	خلود	.....

اكتب كلمة (صواب) أمام العبارات الصحيحة، وكلمة (خطأ) أمام العبارات غير الصحيحة مع تصويبها:

- ( أ ) تعددت الآلهة عند المصريين القدماء فكان لكل إقليم معبود خاص به.
- ( ب ) دعا الملك تحتمس الثالث إلى التوحيد وعبادة إله واحد.
- ( ج ) اعتقد المصري القديم بعودة الروح إلى الجسد بعد الموت.
- ( د ) التحنيط عملية يقصد بها مساعدة الميت على أداء العبادات.
- ( هـ ) اعتقد المصري القديم في الحساب بعد الموت.

بم تفسر...؟

- ( أ ) اهتمام المصريين ببناء القبور والمعابد.
- ( ب ) تعدد الآلهة عند المصريين القدماء.
- ( ج ) حرص المصريين القدماء على تحنيط جثث موتاهم.
- ( د ) تزويد الميت في القبر بالماء والطعام قديماً.

ماذا كان يحدث إذا لم: - يعتقد المصريون القدماء في البعث والخلود؟



حل التدريب

مجاب عنها  
ص ٢٢٤

## تدريبات الأضواء الشاملة على الدرس

أكمل العبارات التالية بكلمات مناسبة:

- ( أ ) كان المصري القديم يعتقد في ..... بعد الموت.
- ( ب ) كانت المعبودات في مصر القديمة من ..... مثل الحيوانات أو الطيور.
- ( ج ) أقام المصري القديم ..... لعبادة الآلهة وإقامة الشعائر الدينية.
- ( د ) العملية التي برع فيها المصريون لحفظ جثث موتاهم تسمى .....
- (سوهاج ٢٠١٥)
- (الإسماعيلية ٢٠١٧)

## اختر الإجابة الصحيحة مما بين الأقواس:

- ( ١ ) أقام المصريون القدماء ..... لعبادة الآلهة وتقديم القرابين. (المباني - المقابر - المعابد - القصور)  
 ( ب ) دعا أخناتون لعبادة إله واحد وهو الإله .....  
 ( ج ) من نتائج إيمان المصريين القدماء بالبعث والخلود أنهم اهتموا بحفظ جثث موتاهم عن طريق .....  
 (التحنيط - الدفن - المقابر - المنازل)

## اكتب كلمة (صواب) أمام العبارات الصحيحة، وكلمة (خطأ) أمام العبارات غير الصحيحة:

- ( ١ ) كان لكل إقليم من أقاليم مصر القديمة معبود خاص. ( )  
 ( ب ) لم يهتم المصريون القدماء ببناء المقابر الحصينة. ( )  
 ( ج ) قام المصري القديم بتحنيط جثث موتاه للحفاظ عليها سليمة. ( )  
 ( د ) دعا أخناتون إلى تعدد الآلهة. ( )  
 ( هـ ) آمن المصري القديم بفكرة البعث والخلود. ( )  
 ( و ) دعا الملك تحتمس الثالث إلى عبادة إله واحد. ( القاهرة ٢٠١٦ )  
 ( ز ) كان الكهنة يقومون بخدمة الآلهة. ( الإسمايلية ٢٠١٦ )

## بم تفسر...؟ (اذكر سببًا واحدًا)

- ( ١ ) بناء المصريين القدماء المعابد. ( )  
 ( ب ) حرص المصريين القدماء على تحنيط جثث موتاهم. ( بورسعيد ٢٠١٥ )  
 ( ج ) قيام المصري القديم ببناء القبور. ( الدقهلية ٢٠١٦ )

## ما النتائج المترتبة على...؟

- إيمان المصري القديم بالبعث والخلود. ( القاهرة ٢٠١٦ )

## اكتب ما تشير إليه العبارات التالية:

- ( ١ ) عملية برع فيها المصريون القدماء لحفظ جثث موتاهم لفترة طويلة. ( الأقصر ٢٠١٥، سوهاج ٢٠١٦ )  
 ( ب ) اجتماع الناس على عبادة إله واحد مقابل تعدد الآلهة. ( أسيوط ٢٠١٥ )  
 ( ج ) العودة للحياة بعد الموت. ( القاهرة ٢٠١٦ )

## «اعتقد المصريون القدماء في البعث، لذلك قاموا بتحنيط جثث موتاهم».. في ضوء هذه العبارة وضح:

- ( ١ ) فيم اعتقد المصريون القدماء؟  
 ( ب ) وضح معنى التحنيط. ( الإسكندرية ٢٠١٥ )



يجب عنه التلميذ



سؤال الفائزين



أجب عن الأسئلة التالية لتجمع نجوم التفوق:

(أ) من خلال الصورة الموضحة أجب عن التالي:

١- من هو الملك الذي رفض تعدد الآلهة؟

٢- كان الملك الموجود في الصورة يتعبد للإله ..... ورمز له بقرص .....

(ب) برهن على: اعتقاد المصريين بعودة الروح مرة أخرى لجثمان المتوفى.

(ج) من يكون...؟ كانوا مسئولين عن خدمة الآلهة في المعابد.

مبروك لقد ربحت عدد ( ) من نجوم التفوق



ذاكروولي  
Rania Sayed



س٤ ما العلاقة بين ؟ : وسائل النقل وكل من ( الصناعة - التجارة ) .

س٥ بم تفسر .. ؟ : تطور الصناعة من اليدوية إلى الحديثة .

س٦ قارن بين الصناعة اليدوية والصناعة الحديثة في الجدول التالي :

وجه المقارنة	الصناعة اليدوية	الصناعة الحديثة
المكان الذي تتم فيه :	.....	.....
عدد العمال :	.....	.....

( مجاب عنها في نهاية الكتاب )

### تدريبات كتاب سلاح التلميذ على الدرس الثاني

ثالثاً :

س١ أكمل العبارات الآتية بالكلمات المناسبة :

- من مصادر الطاقة : البترول ، و ..... ، و .....
- يستخرج الحديد من ..... بالصحراء الغربية .
- من عوامل نجاح التجارة توافر وسائل .....
- تنقسم المواد الخام إلى حيوانية ونباتية و .....
- التجارة الداخلية هي التي تقوم داخل .....
- تقوم الصناعات اليدوية في الورش الصغيرة و .....

س٢ اختر الإجابة الصحيحة مما بين الأقواس :

- من المواد الخام الحيوانية : ( الجلود - الصوف - اللحوم - كل ما سبق )
- من أهم الصناعات التي تقوم على المواد الخام الزراعية : ( الأسمدة - الغزل والنسيج - الأسمت - الألومنيوم )
- تعتمد الصناعات اليدوية على : ( التكنولوجيا الحديثة - الآلات - المهارات اليدوية - كل ما سبق )

س٣ بم تفسر : رواج التجارة وتقدمها في مصر ؟

س٤ أمامك مجموعة من المواد الخام ، وضع الصناعات القائمة عليها : ( قصب السكر - القطن - الصوف ) .

س٥ أعط مفهومًا علميًا لكل عبارة من العبارات الآتية :

- تحويل الخامات إلى منتجات تصلح للاستخدام بواسطة الإنسان .
- عملية استخراج الكثير من المعادن ومصادر الطاقة من باطن الأرض .
- تجارة قائمة بين مصر والدول الأخرى .

هذا العمل خاص بموقع ذاكرولى التعليمي ولا يسمح بتداوله على مواقع أخرى



( يجب عنها التلميذ )

## رابعاً : أسئلة وردت بامتحانات الإدارات التعليمية على الدرس الثاني

س ١) أكمل العبارات التالية بما يناسبها من كلمات :

- ١ - تنقسم الصناعة إلى صناعة ..... ، وصناعة ..... ( إدارة الدلجات - تلا - الحسينية )
- ٢ - من أنواع التجارة ..... ، و ..... ( إدارة شرق الإسكندرية - هيا )

س ٢) اكتب كلمة (صح) أمام العبارة الصحيحة ، وكلمة (خطأ) أمام العبارة غير الصحيحة :

- ١ - يقصد بالتجارة الخارجية البيع والشراء بين القرى والمدن . ( شرق بورسعيد - الطور - مغاغة ) ( )
- ٢ - الصناعة الحديثة تتم في المصانع الكبيرة التي تدار بالآلات . ( إدارة القناطر الخيرية ) ( )
- ٣ - التعدين هو استخراج المعادن ومصادر الطاقة من باطن الأرض . ( إدارة تلا ) ( )
- ٤ - الصناعة اليدوية تتم في المنازل أو الورش الصغيرة . ( إدارة العياط ) ( )

س ٣) اختر الإجابة الصحيحة مما بين الأقواس :

- ١ - عملية البيع والشراء يقصد بها : ( إدارة القناطر الخيرية - شرق الإسكندرية ) ( الزراعة - الصناعة - التجارة - التعدين )
- ٢ - من أهم مصادر الطاقة : ( إدارة الدلجات - دمياط ) ( الفحم - البترول - الغاز الطبيعي - كل ما سبق )
- ٣ - يستخرج الحديد في مصر من : ( إدارة ميت غمر - جنوب السويس ) ( الواحات البحرية - السويس - أم بجمة - العامرية )
- ٤ - يدخل القطن في صناعة : ( إدارة كفر الشيخ ) ( الفخار - الغزل والنسيج - القطارات - الأغذية )
- ٥ - من مصادر الطاقة في مصر : ( الحديد - النحاس - المنجنيز - البترول )
- ٦ - عملية استخراج المعادن من باطن الأرض تسمى : ( إدارة الطور ) ( تعديناً - صناعة - تجارة - زراعة )

س ٤) اكتب ما تشير إليه العبارات الآتية :

- ١ - يقصد بها البيع والشراء بين مصر والدول الأخرى . ( إدارة القناطر الخيرية - تلا )
- ٢ - تحويل المواد الخام إلى صناعات ومنتجات . ( الطور - مطاي - رشيد - مطروح - هيا - القنطرة غرب - أبو تيج )
- ٣ - صناعة تتم في المنازل أو في الورش الصغيرة . ( إدارة كفر الشيخ - العياط - تلا - شمال بورسعيد )
- ٤ - يقصد بها البيع والشراء داخل القرى والمدن والأقاليم داخل الدولة . ( إدارة الأزهر بكفر الشيخ )

س ٥) ماذا يحدث إذا ؟ :

- لم تتوافر في مصر وسائل النقل المختلفة . ( إدارة غرب القاهرة )

هذا العمل خاص بموقع ذاكرولى التعليمى ولا يسمح بتداوله على مواقع أخرى



## خامسا : أسئلة سلاح التلميذ للمتفوقين على الدرس الثاني

( يجب عنها التلميذ )

## س ١ أخطاء السياق ( حدد الكلمة الخطأ ) :

( عبارة عن جملة يوجد بها ٤ كلمات تحتها خط ، وإحدى هذه الكلمات خطأ لا تتوافق مع سياق الجملة والمطلوب منك تحديد الكلمة الخطأ واختيارها )

١ التعدين هو نشاط اقتصادي يتم من خلاله استخراج المعادن ومصادر الطاقة من باطن الأرض ومن أهم أنواع المعادن الموجودة بمصر الغاز الطبيعي .

١ - التعدين . ٢ - المعادن . ٣ - باطن الأرض . ٤ - الغاز الطبيعي .

٢ نستنتج من خريطة توزيع المعادن ومصادر الطاقة في مصر أن الفحم يوجد في جبل مغارة شمال سيناء وأن الحديد يوجد شمال الدلتا ويوجد الذهب بجبل السكري بالصحراء الشرقية .

١ - الفحم . ٢ - جبل مغارة . ٣ - شمال الدلتا . ٤ - بالصحراء الشرقية .

٣ من المقومات الطبيعية اللازمة لقيام الصناعة وجود المواد الخام ورأس المال وتنقسم الصناعة إلى صناعة يدوية وصناعة حديثة .

١ - الطبيعية . ٢ - المواد الخام . ٣ - رأس المال . ٤ - يدوية .

٤ التجارة هي عملية البيع والشراء للمنتجات والسلع وتبادل الخدمات وتنقسم إلى تجارة داخلية وتجارة محلية .

١ - التجارة . ٢ - الشراء . ٣ - داخلية . ٤ - محلية .

( عبارة عن جزأين ويقوم التلميذ باختيار الإجابة الصحيحة مع مراعاة ترتيب الإجابة )

## س ٢ اختر الإجابة الصحيحة :

١ يتم استخراج معدن ..... من الواحات البحرية بالصحراء الغربية ويستخرج المنجنيز من منطقة ..... بشبه جزيرة سيناء .

١ - الحديد - أم بجمة . ٢ - النحاس - أم بجمة .

٣ - الحديد - جبل السكري . ٤ - النحاس - جبل السكري .

٢ يوجد حقل ..... شمال الدلتا ويستخرج منه الغاز الطبيعي بينما يستخرج الفحم من منطقة .....

١ - أبو ماضي - الواحات البحرية . ٢ - أبو طرطور - الصحراء الغربية .

٣ - أبو ماضي - جبل مغارة . ٤ - أبو طرطور - جبل مغارة .

٣ من المقومات الطبيعية اللازمة لقيام الصناعة ..... ويتم تصنيع السيارات والآلات من معدن .....

١ - المواد الخام - القطن . ٢ - رأس المال - الحديد .

٣ - رأس المال - القطن . ٤ - المواد الخام - الحديد .

٤ ..... هي عملية بيع أو شراء المنتجات والسلع وتبادل الخدمات ولا تنجح إلا في حالة وجود .....

١ - الصناعة - وسائل نقل . ٢ - التجارة - عجز في المنتجات .

٣ - التجارة - وسائل نقل . ٤ - الصناعة - عجز في المنتجات .

هذا العمل خاص بموقع ذاكرولي التعليمي ولا يسمح بتداوله على مواقع أخرى

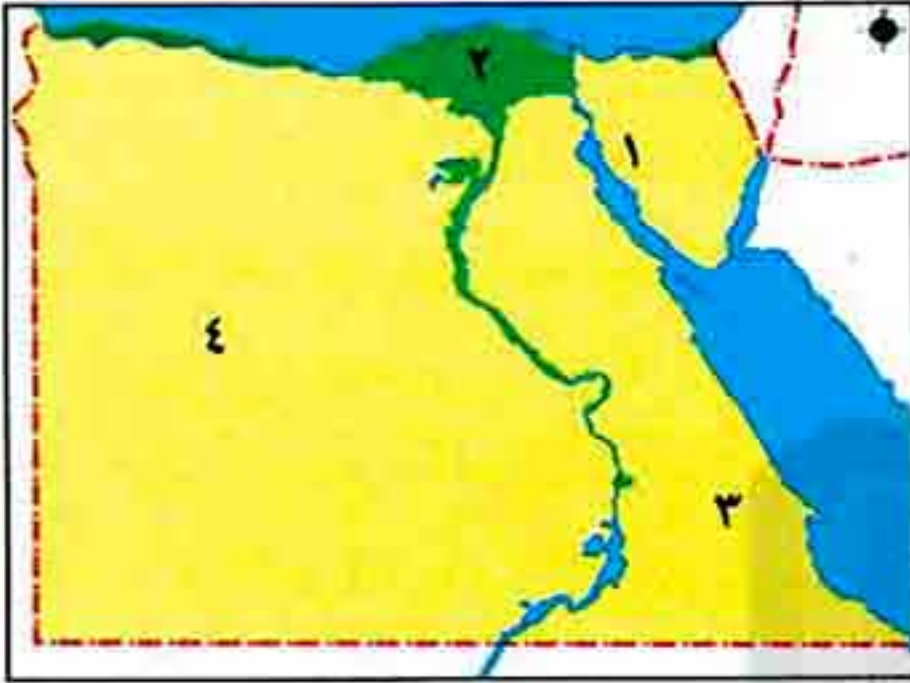


## سادساً:

## اختبار على الدرس الثاني

( يجب عنه التلميذ )

س ١ أ أمامك خريطة صماء لمصر وضح ما تدل عليه الأرقام الآتية :



- ١ - منجم منجنيز .....
- ٢ - حقل غاز طبيعي .....
- ٣ - منجم لاستخراج الذهب .....
- ٤ - منطقة لاستخراج الحديد .....

ب اكتب ما تشير إليه كل عبارة مما يلي :

- ١ - عملية تهدف إلى تحويل المادة الخام إلى منتجات .
- ٢ - عملية بيع أو شراء المنتجات والسلع داخل الدولة .

س ٢ أ قارن بين : ( الصناعات اليدوية - الصناعات الحديثة ) .

ب حدد نوع الخامات التي تستخدم في الصناعات الآتية : السيارات - الملابس الصوفية - السكر .

س ٣ أ صوب ما تحته خط فيما يلي :

- ١ - من المقومات البشرية اللازمة لقيام الصناعة المواد الخام .
  - ٢ - تطورت الصناعة بعد اكتشاف الزراعة .
- ب بم تفسر ؟ : أهمية وسائل النقل للتجارة .

## سابقاً :

## اختبار تراكمي على الدرس الأول والثاني

( يجب عنه التلميذ )

س ١ أ اكتب كلمة ( صح ) أمام العبارة الصحيحة ، وكلمة ( خطأ ) أمام العبارة غير الصحيحة فيما يلي :

- ١ - تتميز تربة الوادي والدلتا بالخصوبة . ( )
- ٢ - من المحاصيل الشتوية في مصر الأرز . ( )
- ٣ - يستخدم معدن الحديد في صناعة السيارات . ( )

ب بم تفسر ؟ : ١ - أهمية نهر النيل لمصر . ٢ - تنوع المحاصيل الزراعية في مصر .

س ٢ أ اكتب ما تشير إليه كل عبارة مما يلي :

- ١ - قناة مائية يتم حفرها لتوصيل المياه إلى الأرض الزراعية .
- ٢ - نشاط اقتصادي يتم من خلاله البحث عن المعادن واستخراجها .
- ٣ - عملية بيع أو شراء المنتجات والسلع بين دولة وأخرى .

ب صنف المقومات الآتية اللازمة لقيام الصناعة إلى طبيعية وبشرية :

( المواد الخام - رأس المال - الأسواق - البترول - الأيدي العاملة - الغاز الطبيعي - وسائل النقل ) .

هذا العمل خاص بموقع ذاكرولي التعليمي ولا يسمح بتداوله على مواقع أخرى



## تقويم الدرس الثالث

## أولاً : أنشطة الكتاب المقرر على الدرس الثالث

(مجاب عنها في نهاية الكتاب)

( للاطلاع على الأنشطة ، انظر الكتاب المقرر )

## ثانياً : تدريبات الكتاب المقرر على الدرس الثالث

(مجاب عنها في نهاية الكتاب)

س ١ أكمل العبارات التالية بكلمات مناسبة :

- أ زيارة مكان داخل مصر للاستمتاع به يعرف بالسياحة .....
- ب ساعدت السياحة في زيادة .....
- ج من العوامل البشرية لجذب السياح لمصر .....
- د من واجبي نحو السياح .....
- هـ تمتلك مصر بعض العيون المائية التي تساعد في العلاج من الأمراض مثل عيون ..... بسيناء .

س ٢ بم تفسر ... ؟ :

- أ أهمية السياحة لمصر .
- ب اهتمام الدولة بنظافة المناطق السياحية وتجميلها .
- ج تعد منطقة عيون موسى من المناطق السياحية بمصر .

س ٣ ما النتائج المترتبة على اهتمام الدولة بإقامة المشروعات السياحية ؟

س ٤ إذا كنت مسئولاً في مجال السياحة ما مقترحاتك لتنمية السياحة في مصر ؟

## ثالثاً : تدريبات كتاب سلاح التلميذ على الدرس الثالث

(مجاب عنها في نهاية الكتاب)

س ١ أكمل العبارات الآتية بالكلمات المناسبة :

- أ يأتي السياح من كل بقاع الأرض على مدار ..... لمصر .
- ب تساعد السياحة على زيادة ..... المصري .
- ج معاملة السياح معاملة ..... تعكس طبيعة الشعب المصري .
- د توفر السياحة ..... للشباب .
- هـ يتميز الشعب المصري بـ ..... الضيافة .
- و توفر مصر العديد من وسائل ..... لخدمة السياح .

س ٢ اكتب كلمة ( صح ) أمام العبارة الصحيحة أو كلمة ( خطأ ) أمام العبارة غير الصحيحة فيما يلي :

- أ زيارة الإنسان للآثار داخل دولته تعد سياحة خارجية . ( )
- ب تعمل السياحة على زيادة الدخل القومي . ( )
- ج من العوامل الطبيعية التي جذبت السياح لمصر الآثار المتنوعة . ( )
- د ساعدت السياحة على توفير فرص عمل لكثير من الشباب . ( )
- هـ السياحة الداخلية تعنى انتقال الأفراد لزيارة أماكن خارج وطنهم . ( )
- و يجب المحافظة على نظافة المناطق الأثرية . ( )
- ز يزور السياح الأماكن الأثرية بغرض العلاج . ( )



س ٣ بم تفسر ؟ :

- أ - مجيء السياح لمصر .  
 ب - أهمية السياحة لمصر .  
 ج - زيارة السياح لعيون موسى بسيينا .  
 د - إنشاء الدولة العديد من القرى السياحية والفنادق .  
 هـ - إقبال السياح إلى مصر على مدار العام .

س ٤ ما مقترحاتك لتنمية السياحة في مصر ؟

( يجيب عنها التلميذ )

### رابعاً : أسئلة وردت بامتحانات الإدارات بالمحافظات على الدرس الثالث

س ١ أكمل العبارات التالية بما يناسبها :

- ١ - تنقسم السياحة إلى سياحة داخلية وسياحة .....  
 ٢ - تساهم السياحة في زيادة ..... لمصر .

( إدارة القطر - إسنا )

( الإدارة المركزية للأزهر بالفيوم - شرق الإسكندرية )

س ٢ اكتب كلمة (صح) أمام العبارة الصحيحة ، وكلمة (خطأ) أمام العبارة غير الصحيحة :

- ١ - ساعد موقع مصر المتميز على جذب السياح إليها .  
 ٢ - تسهم السياحة في زيادة الدخل القومي لمصر .  
 ٣ - تساعد السياحة على إيجاد فرص عمل للشباب .

( هيا - إدفو - طلفا )

( القناطر الخيرية - بندر كفر الدوار )

( إدارة الداخلة - شمال بورسعيد )

س ٣ اكتب ما تشير إليه العبارات الآتية :

- ١ - انتقال الإنسان لزيارة مكان ما داخل دولته .  
 ٢ - عملية تهدف إلى جذب السياح وزيادة أعدادهم بتطوير وزيادة المناطق السياحية .

( إدارة طور سيناء )

( إدارة شرق مدينة نصر )

س ٤ ما النتائج المترتبة على ؟ : اعتدال مناخ مصر طوال العام .

س ٥ ماذا يحدث إذا ؟ : قل أعداد السياح القادمين إلى مصر .

( يجيب عنها التلميذ )

### خامساً : أسئلة سلاح التلميذ للمتفوقين على الدرس الثالث

س ١ أخطاء السياق ( حدد الكلمة الخطأ ) :

( عبارة عن جملة يوجد بها ٤ كلمات تحتها خط ، وإحدى هذه الكلمات خطأ لا تتوافق مع سياق الجملة والمطلوب منك تحديد الكلمة الخطأ واختيارها )

١ يُقبل السياح على مصر بسبب موقعها المتميز بين دول العالم وبرودة المناخ طوال العام إلى جانب وجود الآثار العديدة .

- ١ - يقبل . ٢ - المتميز . ٣ - برودة . ٤ - الآثار .

٢ تساعد السياحة على زيادة دخلنا القومي وتوفير فرص العمل للشباب وتهدف التنمية السياحية إلى جذب السياح مع تقليل أعدادهم وذلك من خلال زيادة المناطق السياحية .

- ١ - زيادة . ٢ - توفير . ٣ - جذب . ٤ - تقليل .

٣ من واجبنا نحو السياح والمناطق السياحية المحافظة على نظافة الأماكن السياحية والكتابة عليها ومعاملة السياح معاملة حسنة .

- ١ - المناطق السياحية . ٢ - نظافة . ٣ - الكتابة عليها . ٤ - حسنة .

هذا العمل خاص بموقع ذاكرولى التعليمي ولا يسمح بتداوله على مواقع أخرى



٤ تقوم الدولة بإنشاء العديد من القرى السياحية والفنادق وتهتم بنظافة وتجميل المناطق السياحية وتعمل على توفير الأمن والأمان وذلك من أجل التنمية الصناعية .

- ١ - السياحة . ٢ - تجميل . ٣ - الأمن . ٤ - الصناعية .

س٢ اختر الإجابة الصحيحة : ( عبارة عن جزأين ويقوم التلميذ باختيار الإجابة الصحيحة مع مراعاة ترتيب الإجابة )

١ ..... هي انتقال الفرد لزيارة أماكن معينة داخل أو خارج وطنه أما ..... فهي انتقال الفرد لزيارة أماكن داخل وطنه فقط .

- ١ - الصناعة - الصناعة الداخلية . ٢ - الزراعة - الزراعة اليدوية .  
٣ - السياحة - السياحة الداخلية . ٤ - التجارة - التجارة الداخلية .

٢ من العيون المائية التي تساعد في علاج الأمراض عيون ..... في سيناء ويتميز مناخ مصر بأنه ..... طوال العام .

- ١ - موسى - معتدل . ٢ - سيوة - معتدل . ٣ - موسى - حار . ٤ - سيوة - حار .

٣ تساعد السياحة في زيادة ..... لذلك يجب علينا المحافظة على .....

- ١ - السكان - تشويه الآثار . ٢ - الدخل القومي - نظافة الأماكن السياحية .  
٣ - الدخل القومي - تشويه الآثار . ٤ - السكان - نظافة الأماكن السياحية .

٤ تعمل الدولة على توفير ..... للسائح خلال رحلته وتقوم بتوفير ..... لسهولة تنقل السياح .

- ١ - الأمن - نظافة الآثار . ٢ - فرص العمل - وسائل المواصلات .  
٣ - الأمن - وسائل المواصلات . ٤ - فرص العمل - نظافة الآثار .

### ادبنا على الدرس الثالث

س١ سادساً :

( يجب عنه التلميذ )

س١ اأكمل العبارات الآتية بكلمات مناسبة :

- ١ - يقبل السياح على مصر بسبب ..... طوال العام .  
٢ - توجد عيون موسى في .....  
٣ - تهدف ..... إلى جذب السياح وزيادة أعدادهم .

ب بم تفسر : أهمية السياحة لمصر .

س٢ اكتب ما تشير إليه كل عبارة مما يلي :

- ١ - انتقال الأفراد لزيارة أماكن داخل وطنهم .  
٢ - انتقال الأفراد لزيارة أماكن خارج وطنهم .

ب ما النتائج المترتبة على ؟ : امتلاك مصر لآثار متنوعة .

س٣ صوب ما تحته خط فيما يلي :

- ١ من واجبنا نحو المناطق السياحية الكتابة على الآثار .  
ب تستخدم عيون موسى في الصناعة .





## مراجعة عامة على الوحدة الأولى

(مجاب عنها في نهاية الكتاب)

## تدريبات الكتاب المقرر على الوحدة الأولى

أولاً :

س 1 اكتب كلمة ( صح ) أمام العبارة الصحيحة ، وكلمة ( خطأ ) أمام العبارة غير الصحيحة فيما يلي :

- أ ) تنوع الأنشطة الاقتصادية في مصر لتعدد الموارد . ( )  
 ب ) القطن من المحاصيل الشتوية التي تحتاج إلى درجة حرارة منخفضة . ( )  
 ج ) تنتشر الزراعة في الصحراء الغربية . ( )  
 د ) ساعد موقع مصر الجغرافي على جذب السياح إليها . ( )  
 هـ ) تنتشر الأغنام والماعز والإبل في الوادي والدلتا بمصر . ( )

س 2 أكمل العبارات التالية بكلمات مناسبة :

- أ ) يدخل الحديد في صناعة .....  
 ب ) تنقسم الصناعة إلى صناعة ..... وصناعة .....  
 ج ) تسهم السياحة في نمو ..... لمصر .  
 د ) يذهب السياح إلى منطقة عيون ..... بسبب هدف العلاج من الأمراض .

س 3 بم تفسر ؟ : أ ) أهمية السياحة لمصر . ب ) تنوع المحاصيل الزراعية في مصر .

ج ) اهتمام الدولة بتوفير الأسمدة والبذور الجيدة .

س 4 أكمل الجدول التالي :

المفهوم	المقصود به
.....	عملية شراء أو بيع المنتجات والسلع بين دولة وأخرى .
.....	استخراج المعادن ومصادر الطاقة الموجودة في باطن الأرض .
.....	الصناعة التي تتم في المصانع الكبيرة التي تدار بالآلات .
تنمية سياحية	.....

س 5 اختر الإجابة الصحيحة مما بين الأقواس :

- أ ) من الأنشطة الخدمية : ( الصناعة - التجارة - السياحة - التعليم )  
 ب ) من المحاصيل الشتوية : ( البرسيم - القطن - الذرة - الأرز )  
 ج ) من العوامل البشرية لجذب السياحة لمصر : ( المناخ المعتدل - الآثار المتنوعة - الطبيعة الساحرة - الموقع المتميز )  
 د ) من المعادن التي تدخل في الصناعة : ( البترول - الحديد - الغاز الطبيعي - الفحم )

س 6 ما النتائج المترتبة على ؟ :

- أ ) توافر وسائل نقل حديثة بالنسبة للتجارة . ب ) تنوع الحرارة صيفاً وشتاءً .  
 ج ) ازدهار السياحة في مصر . د ) اهتمام الدولة بإنشاء العديد من القرى السياحية والفنادق .  
 هـ ) وجود مياه جوفية في بعض المناطق الصحراوية .

هذا العمل خاص بموقع ذاكرولى التعليمي ولا يسمح بتداوله على مواقع أخرى



(مجاب عنها في نهاية الكتاب)

اسئلة سلاح التلميذ على الوحدة الاولى

بالتالي

مجموعة 1 أكمل العبارات الآتية بالكلمات المناسبة :

- ١ - الهدف من الأنشطة الاقتصادية توفير احتياجات المجتمع من الغذاء ، و ..... ، والمسكن .
- ٢ - تنتشر الأغنام ، و ..... ، و ..... في البيئة الصحراوية .
- ٣ - من أهم المناطق الزراعية بمصر : ..... ، و .....
- ٤ - ساعد على رواج التجارة ..... ، و .....
- ٥ - اللبن والجبن والبيض من المنتجات .....
- ٦ - تتنوع المحاصيل الزراعية بسبب اختلاف .....
- ٧ - القمح والبرسيم محاصيل .....
- ٨ - القطن والذرة والأرز محاصيل .....
- ٩ - تتمثل موارد المياه بمصر في : ..... ، و ..... ، و .....
- ١٠ - تسقط بعض الأمطار على السواحل ..... لمصر .
- ١١ - في الوادي والدلتا تكثر تربية .....
- ١٢ - من أهم مصايد الأسماك في مصر بحيرة .....
- ١٣ - القطن وقصب السكر من المواد الخام .....
- ١٤ - الصوف والجلود من المواد الخام .....
- ١٥ - من مصادر الطاقة : الفحم ، و ..... ، و .....
- ١٦ - تنقسم الصناعة إلى صناعة ..... وصناعة .....
- ١٧ - بعد اكتشاف مصادر الطاقة تطورت الصناعة اليدوية إلى صناعة .....
- ١٨ - من أنواع التجارة : ..... ، و .....
- ١٩ - تهدف التجارة إلى نقل ..... ، و ..... من مناطق الإنتاج إلى مناطق .....
- ٢٠ - ساعد تقدم وسائل النقل على رواج ..... في مصر .

مجموعة 2 اكتب كلمة ( صح ) أمام العبارة الصحيحة أو كلمة ( خطأ ) أمام العبارة غير الصحيحة فيما يلي :

- ١ - تتعدد الأنشطة الاقتصادية في مصر . ( )
- ٢ - سواحل مصر على البحرين الأحمر والمتوسط من أهم المناطق السياحية . ( )
- ٣ - يصنع الخبز من القمح أو الذرة أو الشعير . ( )
- ٤ - تتنوع المحاصيل الزراعية بسبب تنوع المناخ . ( )
- ٥ - من المحاصيل الصيفية بمصر القمح . ( )
- ٦ - يعد نهر النيل المصدر الرئيسي للمياه في مصر . ( )
- ٧ - تنتشر المياه الجوفية بمصر في المناطق الصحراوية وسيناء . ( )
- ٨ - تتركز مياه الأمطار في السواحل الشمالية لمصر . ( )

هذا العمل خاص بموقع ذاكرولى التعليمى ولا يسمح بتداوله على مواقع أخرى



- ٩ - البحرين الأحمر والمتوسط من المصايد السمكية في مصر . ( )
- ١٠ - القطن يتم غزله ، ويصنع من خيوطه الملابس القطنية . ( )
- ١١ - الحديد يتم صهره ليصنع منه السيارات والألات وغيرها . ( )
- ١٢ - تنقسم الصناعة إلى صناعة يدوية وصناعة حديثة . ( )
- ١٣ - وفرة وسائل النقل الجيدة تساعد على قيام تجارة ناجحة . ( )
- ١٤ - بيع وشراء المنتجات داخل الدولة يقصد به التجارة الداخلية . ( )
- ١٥ - ساعد موقع مصر على رواج التجارة . ( )
- ١٦ - نحصل من خلال التعدين على الحبوب الغذائية . ( )
- ١٧ - الحديد من المواد الخام الزراعية . ( )

### مجموعة ٣ اختر الإجابة الصحيحة مما بين الأقواس :

- ١ - من الأنشطة الخدمية : ( الأمن - التعليم - الصحة - كل ما سبق )
- ٢ - من مناطق استخراج البترول في مصر خليج : ( نعمة - العقبة - السويس - العرب )
- ٣ - يعمل بحرفة الصيد وبناء السفن سكان المناطق : ( الزراعية - الساحلية - الصحراوية - الصناعية )
- ٤ - من المناطق الزراعية بمصر : ( وادي النيل - الدلتا - الواحات - كل ما سبق )
- ٥ - تتنوع المحاصيل الزراعية بسبب اختلاف : ( المناخ - الصناعة - التجارة - كل ما سبق )
- ٦ - يتم الحصول على المياه الجوفية من باطن الأرض عن طريق : ( الترغ - السدود - القناطر - العيون والآبار )
- ٧ - من أهم المحاصيل الشتوية : ( القطن - قصب السكر - الذرة - البصل )
- ٨ - في الوادي والدلتا تكثر تربية ..... : ( الماشية - الأغنام - الماعز - الإبل )
- ٩ - من مصادر الطاقة : ( الحديد - المنجنيز - الفوسفات - الفحم )
- ١٠ - يدخل خام ..... في صناعة الآلات . ( الفوسفات - الحديد - النحاس - المنجنيز )
- ١١ - من أهم المحاصيل الصيفية : ( الذرة - البصل - القمح - الفول )
- ١٢ - التجارة بين مصر والدول الأخرى : ( تجارة محلية - تجارة خارجية - تجارة داخلية - كل ما سبق )
- ١٣ - نقل المنتجات إلى مناطق الاستهلاك ( السوق ) يتم عن طريق : ( النقل المائي - النقل البري - النقل الجوي - كل ما سبق )
- ١٤ - البترول والغاز الطبيعي : ( مواد صناعية - مواد خام معدنية - مواد خام طبيعية - مصادر طاقة )
- ١٥ - من أماكن السياحة العلاجية : ( الدقهلية - الجيزة - القاهرة - عيون موسى )
- ١٦ - من جهود الدولة في تنمية السياحة : ( حضور المهرجانات - توفير فرص عمل - زيارة الأماكن - توفير الأمن )
- ١٧ - من مقومات السياحة في مصر : ( توافر وسائل النقل - تنوع الآثار - مناخ مصر - كل ما سبق )

### مجموعة ٤ بم تفسر ؟ :

- ١ - الأنشطة الاقتصادية لها أهمية في حياة الإنسان . ٢ - أهمية الزراعة في مصر .
- ٣ - تنوع الحاصلات الزراعية . ٤ - أهمية الثروة الحيوانية في مصر .



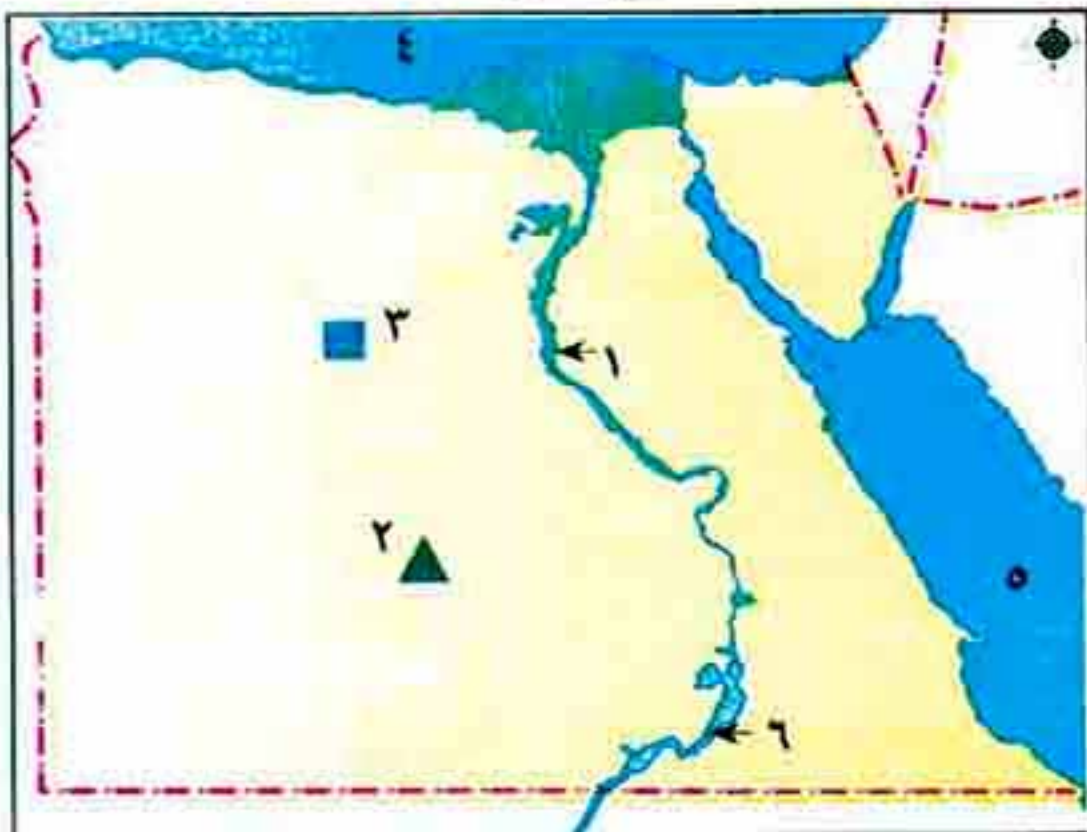
- ٥ - رواج التجارة وتقدمها في مصر .  
٦ - وفود أعداد كبيرة من السياح لمصر .  
٧ - أهمية السياحة في مصر .  
٨ - تعد المظاهر الطبيعية مقصدًا للسياح الأجانب .

## مجموعة ٥ اكتب ما تشير إليه كل عبارة من العبارات التالية :

- ١ - العمل الذي يقوم به الإنسان لسد احتياجاته بطريق مباشر أو كسب المال لشراء هذه الاحتياجات .  
٢ - مياه توجد في باطن الأرض وعلى أعماق مختلفة .  
٣ - من أهم العوامل التي تساعد على تنوع المحاصيل الزراعية .  
٤ - حيوانات تنتشر تربيتها في الوادي والدلتا .  
٥ - بحيرة في جنوب مصر تعد مصدرًا للأسماك .  
٦ - محصول شتوي يطحن ليتحول إلى دقيق تقوم عليه صناعة الخبز .  
٧ - نشاط يقوم به الإنسان في المناطق التي تتوفر فيها موارد المياه والتربة الخصبة .  
٨ - مادة خام حيوانية تقوم عليها المصنوعات الجلدية .  
٩ - من مصادر الطاقة ، ويوجد بكثرة في خليج السويس والصحراء الغربية .  
١٠ - تحويل الخامات إلى منتجات تصلح للاستخدام بواسطة الإنسان .  
١١ - عملية استخراج الكثير من المعادن ومصادر الطاقة في باطن الأرض .  
١٢ - تتم في مصانع كبيرة تدار بالآلات .  
١٣ - مادة خام زراعية تقوم عليها صناعة السكر .  
١٤ - انتقال الفرد داخل أو خارج وطنه لزيارة أماكن أخرى بغرض الاستمتاع بجمال الطبيعة أو الآثار .

## مجموعة ٦ ما النتائج المترتبة على ؟ :

- ١ - تعدد الأنشطة الاقتصادية .  
٢ - اكتشاف مصادر الطاقة .  
٣ - توافر وسائل النقل الجيدة بالنسبة للتجارة .  
٤ - مناخ مصر المعتدل .



## مجموعة ٧ أمامك خريطة صماء لمصر ، وضع مدلول

الأرقام التي عليها :

- ١ - من أهم المناطق الزراعية .....  
٢ - منطقة إنتاج فوسفات .....  
٣ - منطقة استخراج الحديد .....  
٤ - البحر .....  
٥ - البحر .....  
٦ - بحيرة .....

هذا العمل خاص بموقع ذاكرولى التعليمي ولا يسمح بتداوله على مواقع أخرى



### ثالثاً : اختبار استرشادي على الوحدة الأولى

( يجيب عنه التلميذ )

س١ أكمل العبارات الآتية بكلمات مناسبة :

- أ تعدد الأنشطة الاقتصادية يعمل على تعدد مصادر .....
- ب يصنع الخبز من منتجات زراعية مثل .....
- ج الصوف يغزل وتصنع من خيوطه الملابس .....
- د من موارد المياه في مصر ..... و ..... و .....

س٢ ما هي ؟ :

- أ مقترحاتك للتنمية الزراعية والسياحية بمصر .
- ب أنواع الحيوانات التي تربي في الوادي ، والدلتا ، والصحراء .
- ج العوامل البشرية التي تساعد على قيام النشاط الزراعي .

س٣ أعط مفهومًا لكل عبارة من العبارات الآتية :

- أ العمل الذي يقوم به الإنسان لسد احتياجاته بطريق مباشر أو كسب المال لشراء هذه الاحتياجات .
- ب عملية الهدف منها تحويل أي مادة خام إلى منتجات لسد احتياجات السكان .
- ج عملية الهدف منها استخراج المعادن ومصادر الطاقة من باطن الأرض .

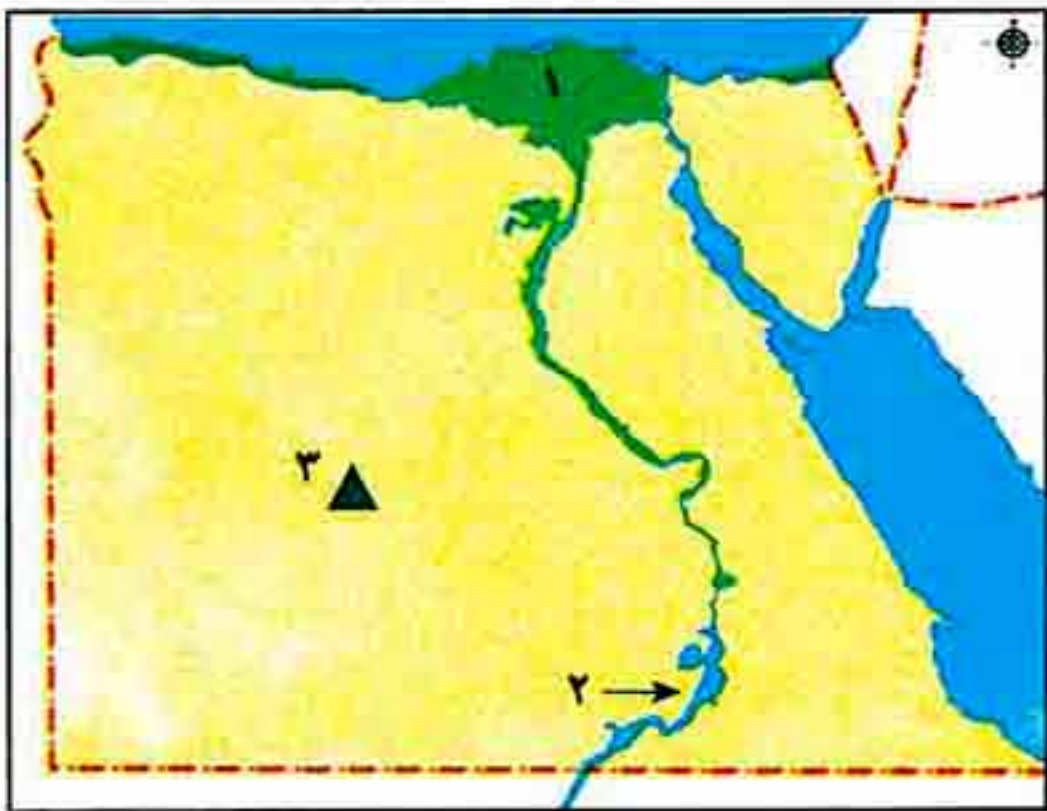
س٤ يَم تفسر ؟ :

- أ تنوع المحاصيل الزراعية في مصر .
- ب أهمية السياحة في مصر .

س٥ أمامك خريطة صماء لمصر ، وضع مدلول الأرقام

التالية :

- ١ - منطقة زراعية رئيسية .....
- ٢ - بحيرة من مصايد الأسماك بمصر .....
- ٣ - منطقة ..... لإنتاج الفوسفات .



هذا العمل خاص بموقع ذاكرولي التعليمي ولا يسمح بتداوله على مواقع أخرى



( يجب عنه التلميذ )

## اختبار للفائقين على الوحدة الأولى

رابعاً :

س١ أكمل العبارات الآتية بكلمات مناسبة :

- أ . تقع مصر في موقع ..... بين دول العالم .  
 ب . تعتمد الصناعات ..... على المهارة اليدوية .  
 ج . شجع على رواج التجارة تقدم وسائل .....

س٢ اكتب المفهوم الدال على كل عبارة فيما يلي :

- أ . العمل أو الحرفة التي يقوم بها الإنسان لسد احتياجاته .  
 ب . استخراج المعادن من باطن الأرض .  
 ج . انتقال الفرد لزيارة أماكن معينة داخل أو خارج وطنه .

س٣ بم تفسر ؟ :

- أ . زيارة السياح لمصر على مدار العام .  
 ب . قيام حرفة التعدين .  
 ج . قيام الزراعة في مصر .

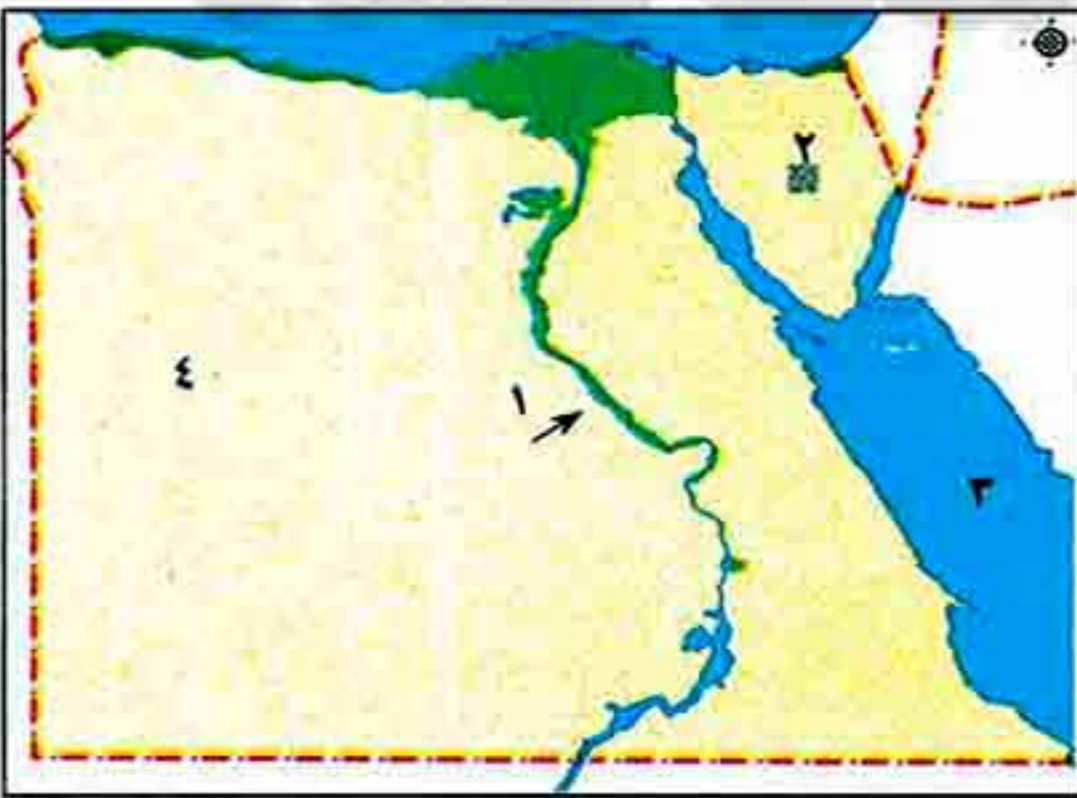
س٤ ماذا يحدث إذا ؟ :

- أ . لم تتوافر المقومات الطبيعية والبشرية للسياحة .  
 ب . لم تتوافر المياه العذبة في مصر .

س٥ أمامك خريطة صماء لمصر ، وضع مدلول

الأرقام التالية :

- ١ - نهر .....  
 ٢ - منطقة لإنتاج الفحم .....  
 ٣ - البحر .....  
 ٤ - الصحراء .....



مجاب  
عنها

## تدريبات سلاح التلميذ على الدرس الثالث

ثانياً :

## س ١ أكمل العبارات التالية بما يناسبها من كلمات :

- ١ - سمي عصر الدولة الحديثة بعصر .....
- ٢ - بدأ عصر الدولة الحديثة بانتصار الملك ..... على الهكسوس .  
( المنوفية ٢٠١٩ )
- ٣ - انتصر الملك ..... على الأعداء في معركة مجدو .  
( المنوفية ٢٠١٩ )
- ٤ - أمر الملك رمسيس الثاني بنحت ..... كثيرة .
- ٥ - استطاع الملك رمسيس الثاني هزيمة الحيثيين في معركة .....  
( الأقصر ٢٠١٩ )
- ٦ - أرسلت الملكة حتشبسوت البعثات التجارية إلى ..... و ..... و .....
- ٧ - شن الملك تحتمس الثالث ست عشرة ..... على ..... و .....
- ٨ - تميزت فترة حكم الملكة ..... بالأمن والاستقرار .
- ٩ - اهتمت الملكة حتشبسوت ب ..... ونهضت بالفنون .
- ١٠ - بنى الملك رمسيس الثاني الكثير من المعابد مثل معبدى ..... ومعبد .....
- ١١ - استطاع الملك ..... تكوين أول وأقدم إمبراطورية عرفها التاريخ تمتد من ..... شمالاً حتى ..... جنوباً .
- ١٢ - بنى الملك ..... أسطولاً بحرياً سيطر به على جزر البحر .....
- ١٣ - قام الملك تحتمس الثالث بتأمين حدود البلاد من ناحية .....
- ١٤ - أقامت الملكة حتشبسوت معبد ..... في غرب الأقصر .
- ١٥ - عقد الملك ..... أقدم معاهدة سلام في التاريخ .
- ١٦ - لقب الملك رمسيس الثاني بلقب بطل ..... و .....

## س ٢ اكتب كلمة (صواب) أمام العبارة الصحيحة ، وكلمة (خطأ) أمام العبارة غير الصحيحة فيما يلي :

- ١ - استطاع الملك رمسيس الثاني هزيمة الحيثيين في معركة فارس . ( )
- ٢ - انتصر الملك تحتمس الثالث في معركة مجدو . ( )
- ٣ - لقب الملك رمسيس الثاني ببطل الحرب والسلام . ( )
- ٤ - بنى الملك رمسيس الثاني الكثير من المعابد مثل معبد الأقصر . ( )
- ٥ - أرسلت الملكة حتشبسوت بعثة تجارية لجلب الأحجار الضخمة من محاجر أسوان . ( )
- ٦ - سمي عصر الدولة الحديثة بعصر المجد الحربى بسبب كثرة انتصارات ملوكها . ( )
- ٧ - أسس الملك تحتمس الثالث إمبراطورية امتدت من العراق شمالاً حتى النوبة جنوباً . ( )
- ٨ - وقع رمسيس الثاني أقدم معاهدة سلام في التاريخ . ( مطروح ٢٠١٨ )
- ٩ - كان لمصر علاقات تجارية منذ القدم مع الدول الإفريقية مثل بلاد بونت . ( )
- ١٠ - قام الملك أحمس بتأسيس أسطول بحرى قوى للسيطرة على البحر المتوسط . ( )
- ١١ - قاد الملك تحتمس الثالث عشر حملات في سوريا وفلسطين . ( )



حل التدريب



- ١٢ - يعتبر الملك تحتمس الثالث من أشهر القادة العسكريين في العالم القديم . ( )
- ١٣ - يعتبر المؤرخون عصر الملك أحمس بداية الدولة الحديثة . ( )
- ١٤ - البعثة التجارية هي مجموعة من التجار ترسل للقيام بعمل ما يساعد على تقوية العلاقات التجارية بين الدول . ( )
- ١٥ - تميزت فترة حكم الملكة حتشبسوت بالأمن والاستقرار . (الشرقية ٢٠١٩) ( )

### س ٣ اختر الإجابة الصحيحة مما بين القوسين :

- ١ - أرسلت الملكة حتشبسوت بعثة تجارية إلى بلاد ..... ( الشام - بونت - السودان - العراق ) (الشرقية ٢٠١٩)
- ٢ - لقب الملك ..... بـ بطل الحرب والسلام . (الشرقية ٢٠١٩)
- ٣ - أرسلت الملكة حتشبسوت بعثة تجارية إلى ..... لجلب الأحجار الضخمة . ( رمسيس الثاني - أحمس - تحتمس الثالث - مينا )
- ٤ - أول من وقّع معاهدة سلام في التاريخ هو ..... ( فينيقيا - بلاد بونت - أسوان - العراق ) (البحيرة ٢٠١٩)
- ٥ - حدثت معركة قادش في عهد الملك ..... ( رمسيس الثاني - تحتمس - أحمس - أخناتون ) (الدفعية ٢٠١٨)
- ٦ - أرسلت الملكة حتشبسوت بعثة إلى فينيقيا لجلب ..... ( نارمر - تحتمس الثاني - رمسيس الثاني - رمسيس الثالث ) (دمياط ٢٠١٨)
- ٧ - يطلق على عصر الدولة الحديثة عصر ..... ( الأخشاب - البخور - العاج - الأحجار الكريمة ) (اليوم ٢٠١٨)
- ٨ - شن الملك تحتمس الثالث ..... حملة على سوريا وفلسطين . ( الاضمحلال - الرخاء الاقتصادي - المجد الحربي - بناء الأهرام )
- ٩ - بنى الملك رمسيس الثاني الكثير من المعابد مثل معبدى ..... ( خمس عشرة - ست عشرة - سبع عشرة - ثمان عشرة )
- ١٠ - يعتبر الملك ..... مؤسس الدولة الحديثة . ( أبو سمبل - الدير البحري - التيه - الشمس ) (تحتمس الثالث - رمسيس الثاني - رمسيس الأول - أحمس)

### س ٤ اكتب ما تشير إليه كل من العبارات التالية :

- ١ - معركة انتصر فيها الملك رمسيس الثاني على الحيثيين . (الإسكندرية ٢٠١٩) (.....)
- ٢ - معركة انتصر فيها الملك تحتمس الثالث على أعدائه . (.....)
- ٣ - عصر من عصور مصر القديمة يسمى بعصر المجد الحربي . (.....)

هذا العمل خاص بموقع ذاكرولى التعليمي ولا يسمح بتداوله على مواقع أخرى





- ٤ - الاسم القديم لبلاد الصومال ( حاليًا ) وكان لها علاقات تجارية مع مصر قديماً . ( ..... )
- ٥ - معبد أقامته الملكة حتشبسوت ويقع غرب مدينة الأقصر . ( ..... )
- ٦ - مجموعة من التجار ترسل من أجل العمل على تقوية العلاقات التجارية بين الدول . ( ..... )

## بم تفسر ؟

- ١ - لقب الملك رمسيس الثاني ببطل الحرب والسلام . ( القاهرة ٢٠١٩ )
- ٢ - سمى عصر الدولة الحديثة بعصر المجد الحربى . ( الإسكندرية ٢٠١٩ )
- ٣ - تعد الملكة حتشبسوت أشهر ملكات مصر .
- ٤ - يعتبر الملك أحمس هو مؤسس عصر الدولة الحديثة .
- ٥ - للملك تحتمس الثالث شهرة عسكرية كبيرة . ( الفيوم ٢٠١٨ )
- ٦ - أرسلت الملكة حتشبسوت بعثة تجارية لبلاد بونت .
- ٧ - إرسال بعثة تجارية إلى فينيقيا ومحاجر أسوان فى عصر الدولة الحديثة . ( الغربية ٢٠١٩ )
- ٨ - للملك رمسيس الثاني شهرة معمارية كبيرة .

## ما النتائج المترتبة على ما يلي ؟

- ١ - بناء الملك تحتمس الثالث أسطولاً بحرياً . ( السويس ٢٠١٨ )
- ٢ - توقيع الملك رمسيس الثاني أول معاهدة سلام فى التاريخ .
- ٣ - اهتمام الملك رمسيس الثانى بالعمارة والبناء .
- ٤ - كثرة انتصارات تحتمس الثالث الحربية . ( الشرقية ٢٠١٩ )
- ٥ - اهتمام الملكة حتشبسوت بالتجارة .

## ١ ما العلاقة بين كل مما يأتى ؟

- ١ - عصر الدولة الحديثة والقوة العسكرية .
- ٢ - مصر وبلاد بونت فى عصر الدولة الحديثة .
- ٣ - مصر وفينيقيا فى عصر الدولة الحديثة .
- ٤ - الملك رمسيس الثانى والرئيس الراحل محمد أنور السادات .

## ب دلى تاريخياً على صحة العبارات التالية :

- ١ - اهتمت الملكة حتشبسوت بتقوية العلاقات التجارية بين مصر والدول الأخرى .
- ٢ - يعتبر الملك تحتمس الثالث من أشهر القادة العسكريين فى العالم القديم .
- ٣ - توجد علاقات تجارية منذ القدم بين مصر ودول القارة الإفريقية .

## ح ما المقصود ب : البعثة التجارية ؟

هذا العمل خاص بموقع ذاكرولى التعليمى ولا يسمح بتداوله على مواقع أخرى



## لن 8 | لمن تنسب الأعمال الآتية ؟:

- ١ - إرسال بعثة تجارية إلى بلاد بونت لجلب البخور والعاج . ( القاهرة ٢٠١٨ ) ( ..... )
- ٢ - إقامة معبد الدير البحري غرب الأقصر . ( البحيرة ٢٠١٩ ) ( ..... )
- ٣ - توقيع أول معاهدة سلام مع الحيثيين . ( ..... )
- ٤ - بناء معبدى أبو سمبل والكثير من المسلات . ( ..... )
- ٥ - الانتصار فى معركة قادش . ( الشرقية ٢٠١٩ ) ( ..... )
- ٦ - الانتصار فى معركة مجدو . ( البحيرة ٢٠١٩ ) ( ..... )
- ٧ - شن ١٦ حملة عسكرية على سوريا وفلسطين . ( الإسكندرية ٢٠١٩ ) ( ..... )
- ٨ - أقام أول إمبراطورية فى التاريخ . ( كفر الشيخ ٢٠١٩ ) ( ..... )
- ٩ - طرد الهكسوس من مصر . ( ..... )
- ١٠ - الاهتمام بالتجارة والنهوض بالفنون . ( ..... )

## لن 9 | صوب ما تحته خط :

- ١ - هزم رمسيس الثانى الحيثيين فى معركة مجدو . ( الأقصر ٢٠١٩ )
- ٢ - بنى الملك رمسيس الثانى أسطولاً بحرياً قوياً سيطر به على جزر البحر المتوسط .
- ٣ - أرسلت الملكة حتشبسوت بعثة تجارية لبلاد بونت لجلب الأخشاب .
- ٤ - قام الملك رمسيس الأول بتوحيد البلاد وتكوين جيش قوى لطرد الهكسوس من مصر .

## لن 10 | أكمل الجدول التالى :

أهم الأعمال	الملك
.....	أحمس
.....	حتشبسوت
.....	تحتمس الثالث
.....	رمسيس الثانى



مجاب  
عنها

## تدريبات سلاح التلميذ على الدرس الأول

ثانياً :

## س ١ أكمل العبارات التالية بما يناسبها من كلمات :

- ١ - كان ..... يساعد الفرعون في إدارة شئون البلاد .
- ٢ - إدارة الصناعة في مصر قديماً يقابلها حالياً وزارة ..... (دمياط ٢٠١٨)
- ٣ - كان الملك ( الفرعون ) يقوم بتعيين ..... (الشرقية ٢٠١٩)
- ٤ - بناء المعابد لإقامة الشعائر الدينية من واجبات .....
- ٥ - من مسؤوليات حاكم الإقليم توفير ..... وحفظ .....
- ٦ - يعتبر ..... هو الحاكم الفعلي للبلاد الذي تتركز في يده كل السلطات . (الإسكندرية ٢٠١٩)
- ٧ - من أسلحة الجيش قديماً ..... و ..... و .....
- ٨ - يقابل منصب حاكم الإقليم قديماً منصب ..... حالياً .
- ٩ - كانت ..... تعاون الوزير في حكم البلاد في مصر القديمة .
- ١٠ - بعد توحيد البلاد اهتم الملوك ب ..... وتسليحه .

## س ٢ اكتب كلمة (صواب) أمام العبارة الصحيحة ، وكلمة (خطأ) أمام العبارة غير الصحيحة فيما يلي :

- ١ - الوزير هو الحاكم الفعلي الذي تتركز في يده كل السلطات . ( القاهرة ٢٠١٩ ) ( )
- ٢ - من أهم الملوك الذين اهتموا بالجيش ( أحمس - تحتمس الثالث - رمسيس الثاني ) . ( )
- ٣ - كانت إحدى مسؤوليات الفرعون بناء المعابد لإقامة الشعائر الدينية . ( القليوبية ٢٠١٩ ) ( )
- ٤ - كان الوزير يعين الملك لإدارة شئون البلاد . ( المنوفية ٢٠١٩ ) ( )
- ٥ - ساعد نظام الحكم في مصر القديمة على استقرار البلاد والحفاظ على وحدتها . ( )
- ٦ - يقوم الجيش بحماية البلاد والحفاظ على وحدتها . ( )
- ٧ - من مهام الحكومة المركزية معاونة الوزير في حكم البلاد . ( )
- ٨ - اعتقد المصريون القدماء أن حاكم الإقليم ابن الإله على الأرض . ( )
- ٩ - من مسؤوليات الفرعون توفير احتياجات وخدمات سكان كل إقليم . ( )
- ١٠ - لم يهتم المصريون القدماء بوجود جيش قوى لحماية البلاد . ( كهر الشيخ ٢٠١٩ ) ( )
- ١١ - تكونت الحكومة المركزية قديماً من رؤساء الإدارات . ( )
- ١٢ - يقابل منصب حاكم الإقليم حديثاً منصب حاكم المحافظة قديماً . ( )



حل التدريب

## س ٣ اختر الإجابة الصحيحة مما بين القوسين :

- ١ - إدارة شئون البلاد والدفاع عنها من مهام ..... ( الوزير - الجيش - الحكومة المركزية - الفرعون )
- ٢ - من أسلحة الجيش قديماً ..... ( الجيزة ٢٠١٩ ) ( السيوف - الخناجر - السهام - كل ما سبق )
- ٣ - أطلق المصريون قديماً على ..... لقب ابن الإله على الأرض .
- ( الفرعون - الوزير - حاكم الإقليم - الجيش )
- ٤ - إدارة التجارة قديماً تقابلها حالياً وزارة ..... ( الزراعة - السياحة - التجارة - الصناعة )

هذا العمل خاص بموقع ذاكرولى التعليمي ولا يسمح بتداوله على مواقع أخرى

## س ٤ : بم تفسر ؟

- ١ - كانت حياة الفرعون في مصر القديمة كلها جد وكفاح .
- ٢ - تعيين الفرعون للوزير .
- ٣ - أهمية منصب الفرعون .
- ٤ - تقديس المصريين القدماء للفرعون ( الملك ) .
- ٥ - اهتمام المصريين القدماء بتكوين جيش قوى . ( الدنيا ٢٠١٩ )
- ٦ - أهمية الحكومة المركزية .
- ٧ - أهمية منصب حاكم الإقليم في مصر القديمة .

( الدفولية ٢٠١٩ )

## س ٥ : ما النتائج المترتبة على ؟

- ١ - إقامة نظام حكم في مصر .
- ٢ - اهتمام الملوك بالجيش وتسليحه قديماً .
- ٣ - كثرة مسئوليات الفرعون .

## س ٦ : من أكون ؟

- ١ - رئيس الحكومة المركزية ويقوم الفرعون بتعيينه لمساعدته في إدارة شئون البلاد . ( ..... )
- ٢ - الحاكم الفعلي للبلاد وتتركز في يدي كل السلطات في مصر القديمة . ( الشرقية ٢٠١٩ ) ( ..... )
- ٣ - المسئول عن إدارة شئون الإقليم وحفظ الأمن داخله . ( ..... )
- ٤ - رؤساء الإدارات ، ولكل منا مسئوليات معينة داخل إدارته . ( ..... )
- ٥ - وظيفتي الدفاع عن البلاد وحماية أمنها واستقرارها . ( ..... )
- ٦ - أطلق على المصريين ( ابن الإله ) على الأرض . ( ..... )

## س ٧ : صوب ما تحته خط فيما يلي :

- ١ - من مسئوليات الوزير تحقيق العدالة بين الناس والحفاظ على حقوقهم .
- ٢ - الفرعون هو رئيس الحكومة المركزية . ( الشرقية ٢٠١٩ )
- ٣ - حاكم الإقليم اعتبره المصريون ابن الإله على الأرض .
- ٤ - إدارة الصناعة يقابلها الآن وزارة الزراعة .
- ٥ - يقابل منصب الفرعون قديماً منصب رئيس الوزراء حديثاً .

- ١ « اعتقد المصريون القدماء أن الفرعون هو ابن الإله على الأرض وهو الحاكم الفعلي للبلاد » .

## في ضوء هذه العبارة أجب :

- ١ - من الحاكم الفعلي للبلاد ؟
- ٢ - لماذا يقوم الفرعون ببناء المعابد ؟
- ٣ - اذكر اثنتين من مسئوليات الفرعون .

## د دل على صحة العبارات الآتية :

- ١ - تكون نظام الحكم في مصر قديماً من عدة هيئات .
- ٢ - تعددت مهام الفرعون في مصر قديماً .

اختبارات على  
ما سبق دراسته

(يجيب عنها التلميذ)

## س ١ | اختر الإجابة الصحيحة مما بين الأقواس :

- ١ - بناء المعابد لإقامة الشعائر الدينية من واجبات .....  
( الوزير - الفرعون - حاكم الإقليم - الجيش )
- ٢ - شيدت الملكة حتشبسوت معبد .....  
( أبو سمبل - الأقصر - الدير البحري - الكرنك )
- ٣ - يعتبر الحاكم الفعلي الذي تتركز في يده كل السلطات .....  
( أسبوط ٢٠١٨ )  
( الوزير - الفرعون - حاكم الإقليم - الكاتب )
- ٤ - كان ..... يعين الوزير ليساعده في إدارة البلاد .  
( أسبوط ٢٠١٩ )  
( الفرعون - حاكم الإقليم - الكاتب - الكاهن )

## س ٢ | ب رتب الأحداث التاريخية التالية من القديم للحديث :

( عقد أول معاهدة سلام في التاريخ - إنشاء سد اللاهون - حفر قناة سيزوستريس )

## س ٣ | ب تفسر ؟:

- ١ - أهمية الحكومة المركزية .
- ٢ - يعد الهرم الأكبر أحد عجائب الدنيا السبع .

## س ٤ | ب دلل تاريخياً على صحة العبارة الآتية :

يعتبر الملك تحتمس الثالث من أشهر القادة العسكريين في العالم القديم .

## س ٥ | ب اكتب المصطلح التاريخي الذي تشير إليه كل عبارة من العبارات التالية :

- ١ - أول بناء حجري في التاريخ ويتكون من ست مصاطب .  
(.....)
- ٢ - ملك كَوْن أول وأقدم إمبراطورية عرفها التاريخ .  
(.....)
- ٣ - اعتبره المصريون القدماء ابن الإله على الأرض .  
(.....)

## س ٦ | ب ما العلاقة بين كل من : الملك سنوسرت الثالث وقناة سيزوستريس ؟

## س ٧ | ب اكتب كلمة ( صواب ) أمام العبارة الصحيحة ، وكلمة ( خطأ ) أمام العبارة غير الصحيحة فيما يلي :

- ١ - انتصر الملك رمسيس الثاني على الحيثيين في معركة مجدو . ( )
- ٢ - سمي عصر الدولة الوسطى بعصر المجد الحربي . ( )
- ٣ - يقوم الجيش بالدفاع عن البلاد ضد المعتدين . ( )
- ٤ - يقابل إدارة الزراعة قديماً وزارة الصناعة حديثاً . ( )

ب « كان للملكة إياح حتب دور مهم في طرد الهكسوس من مصر » .. وضع .

هذا العمل خاص بموقع ذاكرولى التعليمي ولا يسمح بتداوله على مواقع أخرى

مجاب  
عنها

## تدريبات سلاح التلميذ على الدرس الثاني

ثانياً :

## ١ س أكمل العبارات التالية بما يناسبها من كلمات :

- ١ - كان لكل إقليم ..... خاص به .
- ٢ - كان ..... يقومون بخدمة الآلهة في المعابد . ( الشرقية ٢٠١٩ )
- ٣ - يعتبر الملك ..... صاحب أول ثورة دينية في التاريخ . ( المنوفية ٢٠١٩ )
- ٤ - قام أمنحتب الرابع بتوحيد الآلهة في إله واحد أسماه ..... ورمز له ب ..... ( المنوفية ٢٠١٩ )
- ٥ - اهتم المصريون القدماء ببناء ..... لدفن موتاهم .
- ٦ - وضع المصريون القدماء مع الميت ..... و ..... .
- ٧ - اهتم المصريون القدماء ببناء ..... لإقامة الشعائر الدينية .
- ٨ - من الآلهة التي انتشرت عبادتها عند المصريين القدماء ..... و ..... و ..... .
- ٩ - لقب الملك أمنحتب الرابع نفسه بلقب ..... واتخذ من مدينة ..... عاصمة له .
- ١٠ - اعتقد المصريون القدماء في ..... بعد الموت .
- ١١ - اتخذ المصريون القدماء معبوداتهم من ..... فعبدوا ..... و ..... .
- ١٢ - حفظ المصريون القدماء جثمان الموتى عن طريق عملية ..... .
- ١٣ - قام المصريون القدماء بتحنيط جثث موتاهم لاعتقادهم في ..... و ..... .

## ٢ س اكتب كلمة (صواب) أمام العبارة الصحيحة، وكلمة (خطأ) أمام العبارة غير الصحيحة فيما يلي :

- ١ - دعا الملك أمنحتب الرابع (أخناتون) إلى عبادة الإله إيزيس ورمز له بقرص الشمس . ( القاهرة ٢٠١٩ ) ( )
- ٢ - دعا الملك تحتمس الثالث إلى التوحيد وعبادة إله واحد . ( مطروح ٢٠١٨ ) ( )
- ٣ - رفض الملك أمنحتب الرابع تعدد الآلهة في مصر القديمة . ( )
- ٤ - اجتمع الناس على عبادة إله واحد يسمى التوحيد . ( )
- ٥ - اهتم المصريون القدماء ببناء القبور لدفن الموتى . ( كفر الشيخ ٢٠١٩ ) ( )
- ٦ - استخدم المصريون القدماء التحنيط لحفظ جثمان الموتى . ( )
- ٧ - تعددت الآلهة في مصر الفرعونية فكان لكل إقليم معبود خاص به . ( الشرقية ٢٠١٩ ) ( )
- ٨ - اعتقد المصري القديم بعودة الروح إلى الجسد بعد الموت وهو ما يسمى بالبعث . ( )
- ٩ - اعتقد المصريون القدماء في الثواب والعقاب بعد الموت . ( )
- ١٠ - قام الكهنة بخدمة الآلهة . ( )
- ١١ - اتخذ المصريون القدماء معبوداتهم من الطبيعة مثل الصقر . ( )



حل التدريب

## ٣ س اختر الإجابة الصحيحة مما بين القوسين :

- ١ - مدينة اتخذها الملك أمنحتب الرابع عاصمة له ..... ( البحيرة ٢٠١٩ ) ( منف - طيبة - أخيتاتون - بوتو )
- ٢ - تميزت الديانة المصرية القديمة بعدة خصائص منها ..... ( التوحيد - تعدد الآلهة - الثواب والعقاب - كل ما سبق )
- ٣ - يعتبر الملك أخناتون صاحب أول ثورة ..... في التاريخ . ( اقتصادية - سياسية - دينية - صناعية )
- ٤ - ..... هو حياة أبدية لا موت بعدها . ( البعث - الخلود - التوحيد - التحنيط )
- ٥ - آمن المصري القديم بالبعث والخلود لذلك برع في عملية : ( التحنيط - التوحيد - الهندسة - الزراعة )

## س ٤ : بم تفسر ؟

- ١ - اهتمام المصري القديم ببناء القبور .
- ٢ - بناء المصريين القدماء للمعابد الضخمة .
- ٣ - ثورة أخناتون الدينية .
- ٤ - تحنيط المصريين القدماء لجثث موتاهم .
- ٥ - تعدد الآلهة عند المصريين القدماء .

## س ٥ : ما النتائج المترتبة على ؟

- ١ - اعتقاد المصريين القدماء في البعث والخلود .
- ٢ - ثورة أخناتون الدينية .
- ٣ - اعتقاد المصريين القدماء في الثواب والعقاب .
- ٤ - دعوة إخناتون إلى عبادة إله واحد .

## س ٦ : اكتب ما تشير إليه كل عبارة من العبارات التالية :

- ١ - حفظ جثمان ( جث ) الموتى لتظل سليمة لفترات طويلة .
- ٢ - اجتماع الناس على عبادة إله واحد مقابل تعدد الآلهة .
- ٣ - عودة الروح إلى الإنسان وعودته للحياة مرة أخرى .
- ٤ - حياة أبدية لا موت بعدها .

## س ٧ : ا صوب ما تحته خط فيما يلي :

- ١ - قام الملك زوسر بأول ثورة دينية في التاريخ .
- ٢ - اتخذ أمنحتب الرابع من مدينة طيبة عاصمة له .
- ٣ - دعا أمنحتب الرابع إلى عبادة إله واحد أسماه رع .
- ٤ - اهتم المصريون القدماء ببناء المعابد لدفن موتاهم .

## س ٨ : ما العلاقة بين : أخناتون والتوحيد ؟

## س ٨ : الصور التالية توضح بعض خصائص الديانة المصرية القديمة ، في ضوء ذلك أجب عما يأتي :



- ١ الصورة رقم (١) توضح عملية .....  
• ما المقصود بها ؟
- ب الصورة رقم (٢) توضح ما قام به الملك .....  
• ماذا كان سيحدث إذا : لم يوحد هذا الملك الآلهة في إله واحد ؟
- ج الصورة رقم (٣) توضح عملية ..... بعد ..... ، حيث اعتقد المصري قديماً في الثواب و .....

هذا العمل خاص بموقع ذاكرولى التعليمى ولا يسمح بتداوله على مواقع أخرى

اختبار على  
ما سبق دراسته



( يجب عنها التلميذ )

س ١ | اختر الإجابة الصحيحة مما بين الأقواس :

- ١ - قام الملك ..... بأول ثورة دينية . ( البحيرة ٢٠١٨ ) ( أختاتون - رمسيس الأول - أحمس - مينا )
- ٢ - رئيس الحكومة المركزية هو ..... ( الفرعون - الوزير - حاكم الإقليم - الكهنة )
- ٣ - يقوم ..... ببناء المعابد لإقامة الشعائر الدينية . ( الوزير - الكهنة - حاكم الإقليم - الفرعون )
- ٤ - أمر الملك ..... بنحت تماثيل ( أبو الهول ) . ( خوفو - خفرع - منكاورع - أختاتون )

ب | ارسم خطأ زمنيًا تبين فيه المراحل التي مرت بها الحياة الدينية عند المصريين القدماء .

س ٢ | ا | بم تفسر ؟:

- ١ - اهتمام المصريين القدماء بالجيش .
- ٢ - بناء المصريين القدماء للمقابر .
- ٣ - سمي عصر الدولة القديمة بعصر بناء الأهرام .
- ٤ - كره المصريين للهكسوس .

ب | لمن تنسب الأعمال التاريخية التالية ؟:

- ١ - اتخذ من طيبة عاصمة للبلاد بعد نهاية عصر الدولة القديمة . ( ..... )
- ٢ - دعا لعبادة إله واحد بدلاً من تعدد الآلهة . ( ..... )
- ٣ - انتصر في معركة مجدو . ( ..... )

س ٣ | ا | ماذا كان سيحدث إذا لم : يعتقد المصريون القدماء في البعث والخلود ؟

ب | ما المقصود بكل من ؟:

- ١ - البعث .
- ٢ - الهرم .
- ٣ - عصر المجد الحربي .
- ٤ - التحنيط .

س ٤ | ا | دلل تاريخيًا على صحة العبارات الآتية :

- ١ - كان لمصر علاقات تجارية منذ القدم مع الدول الإفريقية .
  - ٢ - لقب أحمس بلقب ( قاهر الهكسوس ) .
- ب | كان للمرأة المصرية دور واضح في التاريخ ، سواء كانت أمًا أو ملكة . وضح ذلك في ضوء ما درست .



## قطر الندى

## الوحدة الأولى

## ملحوظات هامة

- ١- تُصدر مصر سلعًا كثيرة إلى الخارج كما تستورد سلعًا أخرى.
- ٢- ساعد موقع مصر المتميز وتقدم وسائل النقل على رواج التجارة.

## معلومة إثرائية

- ◆ تهدف قناة السويس الجديدة إلى زيادة عدد السفن التي تمر بها مما يؤدي إلى ازدهار التجارة الخارجية (الدولية).

## اختبر معلوماتك

## س ١: اكتب كلمة (صح) أمام العبارة الصحيحة وكلمة (خطأ) أمام العبارة الخطأ:

- ١- يغزل القطن ويحول إلى خيوط لصناعة الملابس الصوفية. ( )
- ٢- كانت الصناعة في البداية تتميز بكثرة عدد العمال. ( )
- ٣- يعتبر الحديد والنحاس من مصادر الطاقة في مصر. ( )
- ٤- تحتاج التجارة إلى وسائل نقل جيدة مثل النقل الجوي. ( )

## س ٢: أكمل العبارات الآتية:

- ١- من المعادن الموجودة في مصر ..... و ..... و .....
- ٢- من وسائل النقل ..... و ..... و .....
- ٣- من أنواع التجارة ..... و .....
- ٤- من مصادر الطاقة البترول و ..... و .....

## س ٣: اكتب ما تشير إليه كل عبارة من العبارات الآتية:

- ١- عملية الغرض منها تحويل المواد الخام إلى منتجات.
- ٢- محصول زراعي تقوم عليه صناعة الخبز بعد طحنه.
- ٣- تبادل السلع والخدمات بالبيع والشراء بين مصر والدول الأخرى.
- ٤- صناعة تتم في المنازل أو الورش الصغيرة.

## س ٤: صنف المواد الخام الآتية إلى زراعية وحيوانية ومعدنية:

( قطن - حديد - جلود - الذهب - قصب السكر - ألبان )



الانشطة الاقتصادية في بلدى

قطر الندى

اختبر معلوماتك

س ١: اكتب كلمة (صح) أمام العبارة الصحيحة وكلمة (خطأ) أمام العبارة الخاطئة:

- ١- ساعد موقع مصر الجغرافى على جذب السياح إليها. ( )
- ٢- تنوع الآثار المصرية من العوامل الهامة لجذب السياح فى مصر. ( )
- ٣- يأتى العديد من السياح إلى مصر للتمتع بمناخها المعتدل طوال العام. ( )
- ٤- تساعد السياحة على زيادة الدخل القومى. ( )

س ٢: أكمل ما يلى:

- ١- معاملة السياح معاملة..... تعكس طبيعة الشعب المصرى .
- ٢- يأتى العديد من السياح للاستشفاء والعلاج فى عيون.....
- ٣- من أنواع السياحة فى مصر سياحة..... وسياحة.....
- ٤- من الجهود التى تقوم بها الدولة فى مجال السياحة..... و.....

س ٣: اختر الإجابة الصحيحة مما بين القوسين:

- ١- من عوامل الجذب السياحى فى مصر.....  
( الآثار المتنوعة - المناخ المعتدل - الموقع المتميز - جميع ما سبق )
- ٢- تضم مدينة الأقصر وحدها حوالى..... آثار العالم.  
( نصف - ربع - ثلث - خمس )
- ٣- من فوائد السياحة..... ( توفير فرص العمل - زيادة الدخل - كلاهما صحيح )
- ٤- الانتقال لزيارة الأماكن داخل الوطن تسمى.....  
( سياحة داخلية - سياحة خارجية - كلاهما صحيح )

س ٤: اكتب ما تشير إليه كل عبارة من العبارات الآتية:

- ١- عملية تهدف إلى جذب السياح وزيادة أعدادهم لزيارة المناطق السياحية.
- ٢- انتقال الفرد لزيارة أماكن معينة داخل وطنه أو خارجه.
- ٣- إجمالى الدخول التى تحققها الأنشطة الاقتصادية فى الدولة خلال عام واحد.
- ٤- أحد مناطق السياحة العلاجية وتوجد فى سيناء.

س ٥: بم تفسر؟

- ١- مصر بلد سياحى.
- ٢- للسياحة أهمية كبيرة .
- ٣- زيارة السياح لعيون موسى بسيناء.



## أسئلة وردت بامتحانات الإدارات التعليمية على الوحدة الأولى



## السؤال الأول: اكتب كلمة (صح) أمام العبارة الصحيحة وكلمة (خطأ) أمام العبارة الخاطئة:

- (١) أغلب السياح يأتون إلى مصر في فصل الصيف فقط. [ ظلخا ٢٠١٥م ] ( )
- (٢) يعد نهر النيل المصدر الرئيس للمياه في مصر. [ مطروح ٢٠١٦م ] ( )
- (٣) تنتشر تربية الأغنام والماعز والإبل في الصحراء. [ جنوب بورسعيد ٢٠١٦م ] ( )
- (٤) تسهم السياحة في زيادة الدخل القومي لمصر. [ سوهاج ٢٠١٥م ] ( )
- (٥) القطن والذرة من المحاصيل الصيفية. [ غرب القاهرة ٢٠١٦م ] ( )
- (٦) تتم الصناعة الحديثة داخل الورش والمنازل. [ البحيرة ٢٠١٦م ] ( )
- (٧) تتعدد الأنشطة الاقتصادية في مصر. [ سوهاج ٢٠١٦م ] ( )
- (٨) التعدين هو استخراج المعادن الموجودة في باطن الأرض. [ الجيزة ٢٠١٦م ] ( )
- (٩) تعتمد الزراعة في الوادي والدلتا على مياه الأمطار الشتوية. [ كفر الشيخ ٢٠١٦م ] ( )
- (١٠) ساعد موقع مصر الجغرافي على جذب السياح إليها. [ شرق الإسكندرية ٢٠١٦م ] ( )

## السؤال الثاني: أكمل العبارات التالية:

- (١) من العوامل البشرية لقيام السياحة في مصر ..... و ..... [ الدقهلية ٢٠١٦م ]
- (٢) من أنشطة الخدمات ..... و ..... [ السويس ٢٠١٦م ]
- (٣) تساهم السياحة في زيادة ..... لمصر. [ دمياط ٢٠١٦م ]
- (٤) من المحاصيل الشتوية ..... و ..... [ أسبوط ٢٠١٦م ]
- (٥) تتميز مصر بوجود تربة خصبة وهي تربة الوادي و ..... والواحات. [ الساحل ٢٠١٥م ]
- (٦) من مصادر الطاقة : الفحم والبتترول و ..... [ المنيا ٢٠١٦م ]
- (٧) من أنواع التجارة ..... و ..... [ دمياط ٢٠١٥م ]
- (٨) أمطار السواحل الشمالية بمصر تسقط في فصل ..... [ القاهرة ٢٠١٥م ]
- (٩) من أهم مصايد أسماك مصر العذبة في مصر بحيرة ..... [ الحسينية ٢٠١٦م ]
- (١٠) تنقسم السياحة إلى سياحة داخلية وسياحة ..... [ الغربية ٢٠١٦م ]

## السؤال الثالث: اختر الإجابة الصحيحة مما بين القوسين فيما يلي:

- (١) تتعدد موارد المياه في مصر وهي .....  
( نهر النيل - المياه الجوفية - الأمطار الشتوية - كل ما سبق ) [ دمياط ٢٠١٦م ]
- (٢) توجد أسماك المياه المالحة في .....  
( البحر المتوسط - نهر النيل - بحيرة ناصر - الترعة ) [ الساحل ٢٠١٦م ]
- (٣) يعتبر ..... من المحاصيل الصيفية.  
( القمح - الشعير - القطن - الفول ) [ البحيرة ٢٠١٦م ]



- (٤) من أنشطة الخدمات في مصر .....
- [ سوهاج ٢٠١٦ م ] ( الأمن - التعليم - الصحة - كل ما سبق )
- (٥) عملية البيع والشراء يقصد بها .....
- [ كفر الشيخ ٢٠١٦ م ] ( الزراعة - الصناعة - التعدين - التجارة )
- (٦) استخراج المعادن الموجودة في باطن الأرض تسمى .....
- [ المنوفية ٢٠١٥ م ] ( تعدين - صناعة - تجارة - زراعة )
- (٧) من أهم مصادر الطاقة .....
- [ شمال بور سعيد ٢٠١٦ م ] ( الفحم - البترول - الغاز الطبيعي - كل ما سبق )
- (٨) يدخل الحديد في صناعة .....
- [ الجيزة ٢٠١٥ م ] ( الفخار - المبيدات الحشرية - القطارات - الأغذية )

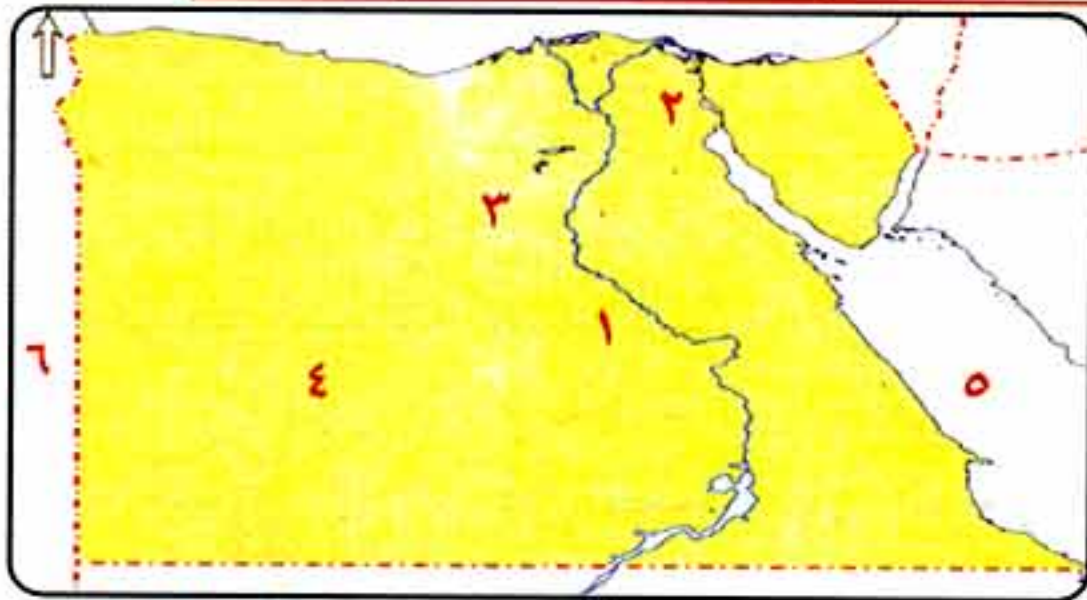
### السؤال الرابع: اكتب ما تشير إليه كل عبارة من العبارات التالية :

- (١) بيع وشراء المنتجات والسلع وتبادل الخدمات.
- [ المنيا ٢٠١٦ م ]
- (٢) قناة مائية يتم حفرها لتوصيل المياه إلى الأرض الزراعية.
- [ دمنهور ٢٠١٦ م ]
- (٣) عملية استخراج المعادن من باطن الأرض.
- [ القاهرة ٢٠١٥ م ]
- (٤) تحويل المواد الخام إلى منتجات لسد احتياجات السكان.
- [ دمياط ٢٠١٦ م ]
- (٥) انتقال الإنسان لزيارة مكان ما داخل دولته.
- [ الشرقية ٢٠١٦ م ]

### السؤال الخامس: بم تفسر ؟

- (١) إقبال السياح إلى مصر طوال العام.
- [ بورسعيد ٢٠١٥ م ]
- (٢) رواج التجارة وتقدمها في مصر.
- [ سوهاج ٢٠١٥ م ]
- (٣) إقبال السياح إلى مصر شتاءً.
- [ شرق الاسكندرية ٢٠١٦ م ]
- (٤) تنوع المحاصيل الزراعية في مصر.
- [ القاهرة ٢٠١٦ م ]
- (٥) أهمية السياحة بالنسبة لمصر.
- [ البحيرة ٢٠١٦ م ]

### السؤال السادس: أمامك خريطة صماء لمصر، اكتب مدلول الأرقام الآتية:



[ ميث غمر ٢٠١٦ م ]

- (١) نهر .....
- (٢) قناة .....
- (٣) منطقة لإنتاج الحديد .....
- (٤) بيئة .....
- (٥) البحر .....
- (٦) دولة .....

الصف الرابع ف ٢

٢٤



## اختبار عام (١) على الوحدة الأولى



### س ١: اكتب كلمة (صح) أمام العبارة الصحيحة وكلمة (خطأ) أمام العبارة الخاطئة:

- ١- تنوع الأنشطة الاقتصادية يساعد على سد احتياجات الإنسان . ( )
- ٢- يصنع الخبز من القمح أو الشعير. ( )
- ٣- تعتمد الزراعة في مصر على مياه الأمطار الشتوية. ( )
- ٤- بحيرة ناصر من مصايد أسماك المياه المالحة. ( )

### س ٢: أكمل العبارات التالية بما يناسبها :

- ١- يستخدم ..... في صناعة الحقائب والأحذية.
- ٢- تنقسم التجارة إلى نوعين هما ..... و .....
- ٣- من المواد الخام الزراعية ..... ومن المواد الخام الحيوانية .....
- ٤- من المحاصيل الصيفية ..... ومن المحاصيل الشتوية .....

### س ٣: تخير الإجابة الصحيحة مما بين القوسين:

- ١- تقوم الزراعة في الواحات على مياه .....
- ( نهر النيل - الأمطار - الآبار والعيون - كل ما سبق )
- ٢- من المواد الخام المعدنية ..... ( القطن - الجلود - الألبان - الحديد )
- ٣- من المحاصيل الشتوية ..... ( الأرز - الذرة - القمح - قصب السكر )
- ٤- كل ما يلي من مصادر الطاقة عدا .....
- ( الفوسفات - البترول - الفحم - الغاز الطبيعي )

### س ٤: اكتب ما تشير إليه كل عبارة من العبارات الآتية:

- ١- مجموع الدخول التي تحققها الأنشطة الاقتصادية في عام واحد.
- ٢- تحويل المواد الخام إلى منتجات لسد احتياجات السكان.
- ٣- أحد موارد المياه وتقوم عليها الزراعة في السواحل الشمالية لمصر.
- ٤- قناة مائية يتم حفرها لتوصيل المياه إلى الأراضي الزراعية.

### س ٥: بم تفسر؟

- ١- للثروة الحيوانية في مصر أهمية كبيرة.
- ٢- رواج وتقدم التجارة في مصر.
- ٣- أهمية السياحة في مصر.
- ٤- تنوع المحاصيل الزراعية في مصر.



### س ١: اكتب كلمة (صح) أمام العبارة الصحيحة وكلمة (خطأ) أمام العبارة الخطأ :

- ١- من أنشطة الخدمات التعليم والصحة والأمن. ( )
- ٢- تشتهر محافظات الوادي والدلتا بالتعدين. ( )
- ٣- يعتبر نهر النيل من أهم مصادر الثروة السمكية في مصر. ( )
- ٤- مناخ مصر لا يناسب قيام الزراعة. ( )

### س ٢: أكمل العبارات الآتية :

- ١- تنقسم موارد المياه في مصر إلى ..... و ..... و .....
- ٢- يلزم لقيام الصناعة توفر ..... و .....
- ٣- يدخل قصب السكر في صناعة ..... بينما يدخل القطن في صناعة .....
- ٤- من أنواع المواد الخام ..... و ..... و .....

### س ٣: اختر الإجابة الصحيحة مما بين القوسين:

- ١- تعتبر الألبان من المواد الخام .....  
( الزراعية - الحيوانية - المعدنية - كل ما سبق )
- ٢- يأتي السياح إلى مصر بهدف .....  
( مشاهدة المناظر الطبيعية - مشاهدة الآثار - التمتع بالمناخ المعتدل - كل ما سبق )
- ٣- من المواد الخام المعدنية .....  
( القطن - الحديد - الجلود - الألبان )
- ٤- من المحاصيل الشتوية في مصر .....  
( الذرة - الأرز - قصب السكر - القمح )

### س ٤: اكتب ما تشير إليه كل عبارة من العبارات الآتية:

- ١- تحويل المواد الخام إلى منتجات لسد احتياجات السكان.
- ٢- نشاط يقوم به الإنسان في المناطق التي تتوافر فيها المياه العذبة والتربة الخصبة.
- ٣- استخراج المعادن ومصادر الطاقة الموجودة في باطن الأرض.
- ٤- عملية الهدف منها زيادة الإنتاج الزراعي عن طريق استصلاح الأراضي.

### س ٥: بم تفسر؟

- ١- تنوع المحاصيل الزراعية في مصر.
- ٢- مجئ السياح إلى مصر صيفاً وشتاءً.
- ٣- للثروة الحيوانية أهمية كبيرة في مصر.
- ٤- أهمية السياحة في مصر.



شخصيات واحداث من التاريخ الفرعوني

## قطر الندى

## معلومة إثرائية

## الإسكندر الأكبر



الإسكندر الأكبر

- فى أواخر عصر الدولة الحديثة سادت مصر حالة من الضعف مما شجع الفرس على غزوها.
- ظلت مصر تحت حكم الفرس حتى جاء الإسكندر الأكبر وهزم الفرس وفتح مصر بسهولة وأسس مدينة الإسكندرية.

## اختبر معلوماتك

س ١: اكتب كلمة (صح) أمام العبارة الصحيحة و كلمة (خطأ) أمام العبارة الخطأ:

- ١- كانت الملكة حتشبسوت تميل إلى الحروب. ( )
- ٢- وقع الملك رمسيس الثانى أول معاهدة سلام فى التاريخ. ( )
- ٣- اهتم المصريون القدماء بالنوبة لوجود مناجم الذهب بها. ( )
- ٤- تعرف بلاد بونت بأنها السودان حالياً. ( )
- ٥- استطاع تحتمس الثالث هزيمة الحيثيين فى معركة قادش. ( )

س ٢: أكمل العبارات الآتية:

- ١- أرسلت الملكة حتشبسوت رحلتها التجارية إلى ..... لجلب الأحجار الكريمة.
- ٢- بنى رمسيس الثانى معبداً ..... و .....
- ٣- يطلق على عصر الدولة الحديثة عصر .....
- ٤- بنت الملكة حتشبسوت معبد ..... غرب الأقصر.
- ٥- شن الملك تحتمس الثالث على سوريا وفلسطين ..... حملة .....

س ٣: اختر الإجابة الصحيحة مما بين القوسين:

- ١- خاض الملك رمسيس الثانى معارك ضد... ( الهكسوس - الحيثيين - الآسيويين )
- ٢- عقدت أول معاهدة سلام فى التاريخ فى عهد الملك .....
- ٣- أشهر ملوك الدولة الحديثة هو الملك .....
- ٤- انتصر الملك تحتمس الثالث على الأعداء فى موقعة ... (مجدو - قادش - أكتيوم )

هذا العمل خاص بموقع ذاكرولى التعليمى ولا يسمح بتداوله على مواقع أخرى

## الوحدة الرابعة



## قطر الندى



بعض أسلحة الجيش قديماً

## ٥- الجيش

بعد توحيد البلاد اهتم الملوك بالجيش وتسليحه.

أهم مسؤولياته  
حماية البلاد والحفاظ  
على وحدتها وأمنها  
واستقرارها والدفاع  
عنها ضد المعتدين.

## ملحوظات هامة

## ١- ظهر دور الجيش بوضوح في :

- \* طرد أحمس للهكسوس.
- \* انتصار الملك تحتمس الثالث في معركة مجدو وسيطرة أسطوله البحري على شواطئ البحر المتوسط.
- \* انتصار الملك رمسيس الثاني على الحيثيين في معركة قادش.

## ٢- من أسلحة الجيش في مصر القديمة :

- \* السيوف والخناجر والرماح والعجلات الحربية والسهام.

## اختبر معلوماتك

س ١ : اكتب كلمة (صح) أمام العبارة الصحيحة وكلمة (خطأ) أمام العبارة الخاطئة فيما يأتي:

- ١- كان الفرعون في مصر القديمة يحكم مصر بمفرده. ( )
- ٢- حفظ الأمن في الإقليم مسئولية حكام الأقاليم. ( )
- ٣- الوزير هو ابن الإله على الأرض. ( )
- ٤- أقام الملك أحمس أول حكومة مركزية. ( )
- ٥- اهتم الملوك بالجيش بعد توحيد البلاد. ( )





## مظاهر الحضارة المصرية القديمة

## قطر الندى

س ٢: أكمل العبارات الآتية :

- ١- كان ..... يعين الوزير في مصر القديمة.
- ٢- تتكون الحكومة المركزية من .....
- ٣- تكون نظام الحكم في مصر القديمة من ..... و .....
- ٤- إدارة شئون البلاد والدفاع عنها مسئولية .....
- ٥- يرأس الحكومة المركزية .....

س ٣: اذكر مسئولية واحدة لكل من :

الفرعون - الوزير - حكام الأقاليم - الجيش.

س ٤: بم تفسر ؟

- ١- تعيين الفرعون للوزير .
- ٢- الاهتمام ببناء جيش قوى فى كل العصور .
- ٣- تقديس المصريين القدماء للفرعون .

## تذكر الوحدة الأولى والثانية والثالثة

س ١: أكمل العبارات الآتية :

- ١- يسمى عصر الدولة الوسطى بعصر .....
- ٢- أرسلت الملكة حتشبسوت بعثة إلى بلاد ..... و .....
- ٣- القطن وقصب السكر من المواد الخام .....
- ٤- من أنشطة الخدمات التعليم و .....

س ٢: اكتب كلمة (صح) أو كلمة (خطأ) أمام العبارات الآتية :

- ١- انتصر الملك تحتمس الثالث على الأعداء فى موقعة قادش. ( )
- ٢- استصلاح الأراضي من صور تأثير الإنسان على البيئة. ( )
- ٣- الملك خوفو صاحب أول هرم مدرج فى التاريخ. ( )
- ٤- ساعد موقع مصر المتميز على جذب السياح إليها. ( )

س ٣: بم تفسر ؟

- ١- تلوث التربة الزراعية.
- ٢- تنوع المحاصيل الزراعية فى مصر.
- ٣- نجاح الهكسوس فى احتلال شمال مصر.
- ٤- إقامة الدولة للمحميات الطبيعية.

## قطر الندى

## الوحدة الرابعة

## اختبر معلوماتك

س ١: اكتب كلمة (صح) أمام العبارة الصحيحة وكلمة (خطأ) أمام العبارة الخاطئة فيما يأتي:

- ١- التحنيط هو عملية يقصد بها حفظ الجسد سليماً. ( )
- ٢- اهتم المصريون القدماء ببناء المتاحف لدفن موتاهم. ( )
- ٣- يعتبر الملك تحتمس الثالث أول من دعا إلى عبادة إله واحد. ( )
- ٤- اعتقد المصريون القدماء في البعث والخلود. ( )
- ٥- اتخذ المصريون القدماء من الطيور والطبيعة آلهة لهم. ( )

س ٢: أكمل العبارات التالية :

- ١- اتخذ الملك أخناتون مدينة ..... عاصمة له.
- ٢- يُعرف خدمة الآلهة باسم .....
- ٣- أول من دعا إلى عبادة الإله أتون هو الملك .....
- ٤- اهتم المصريون القدماء بوضع ..... و ..... في قبر الميت.
- ٥- اهتم المصريون القدماء ببناء القبور والمعابد لاعتقادهم في .....

س ٣: بم تفسر؟

- ١- تعدد الآلهة عند المصريين القدماء.
- ٢- يعتبر الملك أمنحتب الرابع صاحب أول ثورة دينية في التاريخ.
- ٣- اهتم المصريون القدماء بوضع الطعام والأدوات مع الميت في قبره.
- ٤- اهتمام المصريين القدماء بالتحنيط.

س ٤: صل من العمود (أ) ما يناسب العمود (ب) :

(ب)	(أ)
( ) اعتقاد ديني بأن الإنسان يعيش حياة أبدية.	١- بعث
( ) سؤال العبد عما فعله في الدنيا.	٢- خلود
( ) اتخذ الملك أخناتون رمزا لإلهه.	٣- تحنيط
( ) حفظ الجسد سليماً بعد الموت.	٤- الحساب بعد الموت
( ) العودة للحياة بعد موته.	٥- قرص الشمس